

## KİTABIMIZI TANIYALIM

2023 eğitim vizyonunda hedeflenen ölçme değerlendirmedeki soru yaklaşımı, akıl yürütme, eleştirel düşünme, yorumlama, tahmin etme vb. zihinsel becerilerin sınanması öne çıkacaktır. Bilgi depolamak, formül ezberlemek gibi işlemlere ihtiyacın kalmadığı bir yaklaşım sergilenecektir. Bu yüzden Millî Eğitim Bakanlığı hedeflenen ölçme değerlendirmeye ulaşmak için 5, 6, 7 ve 8. sınıfta öğrencilere beceri temelli (yeni nesil) sorular sormaya başlamıştır.

Bu hedef doğrultusunda yayınevi olarak siz öğrencilere bu zorlu süreçte en büyük yardımcınız olacak 7. Sınıf Güçlendiren Paragraf Soru Bankamızı hazırladık. Kitabımızı hazırlarken konuyu yeni öğrendiğinizi düşünerek kazanımları size aşamalı bir şekilde sunduk.

Kitabımızı konu testleri ve beceri temelli testler olarak iki bölüme ayırdık. Bu testlerimizde kolay, orta ve zor olma durumunu güç simgemizle gösterdik. Bununla kolaydan zora öğretim metodu ile konuları daha iyi öğretmeyi amaçladık.



Bu yöntem ile konu testlerinde hangi seviyede olduğunuzu göreceksiniz ve kendi gelişiminizi gözlemleyebileceksiniz. Bu şekilde moral ve motivasyonunuzu en üst seviyede tutabileceksiniz.

## KONU TESTLERİ




Konunun kazanımlarını ve konu ile ilgili kavramları öğretmek amacıyla en temel seviyeden başlayarak hazırladığımız testler konuyu öğrenmenize yardımcı olacaktır. Bu testler ile konuyu öğrenecek ve beceri temelli testleri çözebilmek için gerekli konu bilgisini kazanmış olacaksınız.

# BEÇERİ TEMELLİ TESTLER

Değişen sınav sistemine hazırlık olacak şekilde özgün sorulardan oluşan bu testler siz öğrencilerimize;




Tablo, şekil ve grafik yorumlayabilmeyi



Mantık ve muhakeme becerisini geliştirmeyi



Eleştirel ve analitik düşünebilmeyi



Üst düzey düşünme becerisini geliştirmeyi

kazandıracaktır. Bu şekilde daha 7. sınıftan beceri temelli (yeni nesil) soruların formatını öğrenerek 8. sınıfta gireceğiniz LGS'de başarılı olacaksınız.

Eğitim öğretim hayatımızın bu döneminde kitabımızın faydalı olmasını temenni eder, iyi çalışmalar dileriz.

# DIJİTAL ÇÖZÜM ORTAĞINIZ



android ios



TAMAMI  
VIDEO  
ÇÖZÜMLÜ

Sınav sürecinde yorum gücünü artırmak hız ve pratiklik kazanmak oldukça önemli, yandaki karekodu okutarak çözemediğiniz ve takıldığınız her sorunun çözümünü uzman hocalarımızdan dinleyebilirsiniz. Videoları hazırlarken **MEB** kazanımlarına bağlı kalarak en akılda kalacak şekilde detaylı öğretim yöntemleri uygulanmıştır. **Android ve iOS** işletim sistemlerine tamamen uyumlu olarak hazırladığımız **vektörel videolar** boyut ve kullanım açısından size fayda sağlayacaktır.

## Öğretmenler;

Geçmiş yıllarda öğretmenler öğrencilerine aktaracağı bilgiyi tek yönlü ve kendi materyallerinden oluşturduğu imkânlarla iletirken bugün **Mobil Kütüphane** sayesinde geleneksel eğitim-öğretim metotlarının dışına çıkmıştır.



MOBİL  
KÜTÜPHANE

## SINIFTA VAKİT KAYBINI ENGELLİYORUZ!

**Mobil Kütüphane** uygulaması akıllı tahtaların yanı sıra, projeksiyon, bilgisayar, telefon ve tabletlerle de erişim kolaylığı sağlıyor. Zenginleştirilmiş dijital kitaplarımız ile siz değerli öğretmenlerimiz daha etkileşimli dersler işlerken, zamandan da tasarruf edeceksiniz.

## Öğrenciler;

Günümüzde öğrencilerin 21. yüzyıl becerilerini geliştirmek eğitimin en önemli amaçlarından biri hâline geldi. Bu becerileri geliştirebilmek için de dijital teknolojileri etkin bir şekilde kullanmak gerekiyor. **Mobil Kütüphane** uygulamamız sayesinde;

- Kitap içerisinde bulunan karekod ile **Android ve iOS** işletim sistemlerinden mobil uygulamamıza kolaylıkla erişebilir,
- İstedikçe konu testlerine vakit kaybı yaşamadan rahatlıkla ulaşabilir,
- **Vektörel görüntü** kalitesinde soru çözebilirsiniz.

1. Çatal ve bıçağı yemek yedikten sonra nereye koyduğunuz çok önemli. Daha doğrusu nasıl durduğu çok önemli çünkü istemeden "Bu yemeği beğenmedim." anlamına gelecek bir duruş sergileyebilirsiniz. O yüzden çatal ve bıçak duruşlarının anlamlarını iyi bilmek gerekiyor. Bu anlamlardan bazıları şunlar:
- Çatal ve bıçağınızı artı yapacak şekilde tabağınıza yerleştirdiğinizde ikinci tabak için hazır olduğunuzu anlatmış olursunuz. Yani ara sıcağınızı bitirdiniz ve ana yemeğe geçeceksiniz.
  - Çatal ve bıçağınızı yan yana getirip bulunduğunuz konuma yatay şekilde koyarsanız karşınızdaki kişiye "Ellerine sağlık, her şey çok güzeldi." mesajı veriyorsunuz.
  - Çatalınızın dişleri arasına bıçağınızı yerleştirdiyseniz yemeği beğenmediğiniz mesajı veriyorsunuz.
  - Çatal ve bıçağınızı bulunduğunuz konuma dik olarak yan yana koyuyorsanız yemeğinizi bitirdiğinizi ve artık herhangi bir şey yiyecek durumunuzun olmadığını belirtiyorsunuz.

**Buna göre,**

- Meliha Hanım, gittiği bir restoranda yediği mantar soslu makarnayı beğenmemiştir.
- Emrah, evine gittiği arkadaşının hazırladığı yemekleri kusursuz bulmuştur.
- Yaren, akşam yemeğinde annesinin tabağına koyduğu her şeyi bitirmiş ve daha fazla yiyemeyeceğini söylemiştir.
- Arkadaşlarıyla iş yemeğine giden Mehmet Bey, ara sıcağı yemiş ancak ana yemeği bir türlü gelmemiştir.

**verilen kişilerin çatal ve bıçaklarının konumu aşağıdakilerden hangisi olur?**

	I	II	III	IV
A)				
B)				
C)				
D)				



5 ve 6. soruyu aşağıdaki metne göre cevaplayınız.

Dilay, Timur, Şener, Nimet, Ümit, Sezen ve Hilmi adlı öğrenciler il genelinde düzenlenen satranç, reversi ve mangala turnuvalarına katılmışlardır.

Bu kişiler ve katılmış oldukları turnuvalarla ilgili bilinenler şunlardır:

- Timur ve Hilmi aynı turnuvaya katılmışlardır.
- Reversi turnuvasına katılan tek kişi vardır.
- Ümit, mangala turnuvasına katılmıştır.
- Satranç turnuvasına katılan tek kız Nimet'tir.

5. Timur'un satranç turnuvasına katıldığı biliniyorsa aşağıdakilerden hangisi söylenebilir?

- A) Şener, satranç turnuvasına katılmıştır.
- B) Hilmi, mangala turnuvasına katılmıştır.
- C) Dilay, reversi turnuvasına katılmış olabilir.
- D) Sezen, satranç turnuvasına katılmış olabilir.

6. Şener'in reversi turnuvasına katıldığı biliniyorsa aşağıdakilerden hangisi söylenemez?

- A) Dilay, satranç turnuvasına katılmamıştır.
- B) Sezen reversi turnuvasına katılmış olabilir.
- C) Reversi turnuvasına katılan başka erkek yoktur.
- D) Hilmi, satranç turnuvasına katılmıştır.

7.



Her işaretin bir sözcüğü temsil ettiği bu görselde dört dizelik bir şiir saklanmıştır.

Buna göre, işaretlerle gizlenen şiir aşağıdakilerden hangisi olabilir?


- A) Yağ, yağ yağmur,  
Teknede hamur,  
Bahçede çamur,  
Ver Allah'ım ver.
- B) Güm güm gümüş,  
Al sana memiş.  
Al sana para.  
Ver bana gümüş.
- C) Mendilim dalda kaldı.  
Gözlerim yolda kaldı.  
Yıkılasın İstanbul,  
Yârim nerede kaldı.
- D) Yuvarlandım yumak oldum.  
Ben yumağı ablama verdim.  
Ablam bana darı verdi.  
Ben darıyı kuşa verdim.



8. Hepimiz yaptığımız işte en iyisi olmak için uğraşırız. Hâliyle daha güzel bir hayat yaşamak için çok çalışırız. Ancak yoğun iş hayatının getirdiği stres ve yorgunluk psikolojimizi, buna bağlı olarak da çalışma düzenimizi olumsuz yönde etkiliyor. Şunu unutmamak gerekir ki çok çalışmak zaten her zaman başarı getirmez. Önemli olan akılcı fikirlerle en zor işi kolay hâle getirebilmektir.

Aşağıdaki görsellerden hangisi bu metinde anlatılan durumla ilgili değildir?

A)



B)



C)



D)



9. Yeni yapılan beş katlı bir binaya Şener, Tarık, Buse, Pınar, Zerrin, Ümit ve Emel isimli bazı kişiler taşınacaktır. Bu kişilerin taşındıkları dairelerle ilgili bilinenler şunlardır:

- Şener, apartmanın ilk katına taşınmıştır.
- Buse ile Tarık aynı katta karşılıklı komşulardır.
- Zerrin en üst kata taşınmıştır.
- Ümit'in taşındığı katta başka kimse bulunmamaktadır.
- Ümit, Tarık'ın altındaki katlardan birine taşınmıştır.

Zerrin adlı kişinin alt katına iki kişi taşındığına göre, aşağıdakilerden hangisi kesin yanlıştır?

- A) Tarık ve Buse ikinci katta oturmaktadır.  
B) Pınar, üçüncü katta oturmaktadır.  
C) Emel, Ümit'in üstündeki katlardan birinde oturmaktadır.  
D) Emel ve Pınar aynı katta oturmaktadır.

1.

## TRAFİKTE 2016'NIN BİLANÇOSU

TRAFİK KAZASI SAYISI: **413 BİN 169**



HAYATINI KAYBEDEN:  
**7 BİN 300**  
(3 BİN 493 OLAY YERİNDE,  
3 BİN 807 HASTANEDE)



YARALANAN KİŞİ SAYISI:  
**303 BİN 812**



EN ÇOK KAZANIN YAŞANDIĞI İLLER:  
**İSTANBUL (16 BİN 102)**  
**ANKARA (12 BİN 187)**



ALKOLLÜ ARAÇ KULLANAN  
SÜRÜCÜ SAYISI:  
**100 BİN 662**



BEŞ KEZ LİMİTİ AŞAN SÜRÜCÜ  
SAYISI: **104**



TRAFİKTEN MEN EDİLEN  
ARAÇ SAYISI:  
**866 BİN 65**



KEŞİLEN CEZA MİKTARI:  
**3 MİLYAR 233 MİLYON 363 BİN 241 LİRA**

### KAZANIN OLUŞ ŞEKLİ:



YANDAN ÇARPMA:  
**54 BİN 696**



YAYAYA ÇARPMA:  
**32 BİN 722**



YOLDAN ÇIKMA:  
**26 BİN 897**

### KAZA NEDENİ:



HIZ:  
**78 BİN 89**



GEÇİŞ ÖNCELİĞİNE UYMAMA:  
**24 BİN 926**



DÖNÜŞ KURALLARINA UYMAMA:  
**15 BİN 757**

Bu infografikte aşağıdakilerden hangisine değnilmemiştir?

- A) Kesilen ceza miktarına
- B) Hayatını kaybeden kişi sayısına
- C) Yaşanan kaza nedenlerine
- D) En az kaza yaşanan şehirlere



2.



Yarıyıl tatilinde “Acımak”, “Sergüzeşt” ve “Dokuzuncu Hariciye Koğuşu” adlı kitapları okuyacak olan Alper, Ömer, İsmail, Miray ve Hamza'nın okuyacakları kitapların sırasıyla ilgili bilinenler şunlardır:

- Ömer ve Miray'ın ilk okudukları kitap Dokuzuncu Hariciye Koğuşu, son okudukları kitap Sergüzeşt'tir.
- Alper ve Hamza'nın ilk okudukları kitap Acımak'tır.
- Alper ve İsmail'in okudukları ikinci kitap Dokuzuncu Hariciye Koğuşu'dur.

**Buna göre, aşağıdakilerden hangisi kesinlikle yanlıştır?**

- İsmail'in son okuduğu kitap Acımak'tır.
- Üç kişinin ilk okuduğu kitap Dokuzuncu Hariciye Koğuşu'dur.
- İsmail'in ilk okuduğu kitap Sergüzeşt'tir.
- Hamza'nın okuduğu ikinci kitap Sergüzeşt'tir.

3. Kelime bulma oyunu oynayan iki kişi, oyunlarıyla ilgili aşağıdaki kuralları belirlemiştir.

- Yeni bulunan kelime, bir önceki kelimenin son harfiyle başlamalıdır.
- İlk ve son harfi aynı olan kelimeler kullanılmamalıdır. Örnek: ısı.
- Hiçbir sözcük aynı harfle başlamamalıdır. Örneğin, bir kelimenin ilk harfi “k” ise diğer kelimelerin ilk harfi “k” olmamalıdır.

Elif ve Mehmet bu kurallara göre oynadıkları oyunda toplam beş kelime bulmuşlardır. Elif, oyuna “armut” kelimesini söyleyerek başlamıştır. Mehmet ise 4. kelime olarak “ışıl” kelimesini söylemiştir.

**Elif ve Mehmet, oyunun kurallarına uygun kelimeler bulduğuna göre 2, 3 ve 5. kelimeler aşağıdakilerin hangisi olabilir?**

- | <u>2</u>  | <u>3</u> | <u>5</u> |
|-----------|----------|----------|
| A) Tirmık | Kısa     | Ayva     |
| B) Tarak  | Kapı     | Lale     |
| C) Ayva   | Kanat    | Limon    |
| D) Toka   | Ananas   | Lezzet   |



4. Kabul etmek gerekir ki kedilerin de beden dili vardır. Kediler bizimle iletişim içindedir. Onları anlamak onlara daha iyi şartlar sunabilmek için gereklidir. Kediler beden diliyle, bakışlarıyla, değişik tonlarda miyavlamasıyla hatta kuyruk hareketleri ile bize her daim bir şeyler anlatmak ister. Kedilerimizin bize anlatmak istediklerini kuyruk hareketlerine ve vücutlarında konumlanma yerlerine göre rahatça anlayabiliriz. Örneğin,

- Kedinizin kuyruğu dimdik yukarıdaysa büyük ihtimalle sizi gördüğü için mutlu ve heyecanlıdır.
- Kedinizin kuyruğunun aşağıya doğru olması, korktuğu veya tehdit edildiği anlamına gelir.
- Kediniz yere sırt üstü yatmış birde ellerini oynatıyorsa mutluluktan havalara uçtuğunun ve sizi oyuna çağırdığının göstergesidir.
- Kuyruğu düz ama açısı aşağıya doğru eğilmişse korkmuştur ve kendini saldırmaya hazırlamıştır.

**Buna göre, aşağıdaki kedilerden hangisi sahibiyile eğlenmek isteyen mutlu bir kedinin vücut dilini örneklemektedir?**

A)



B)



C)



D)



5. Alper, Semih, Yağız, Emine, Tarık ve Zeynel; bir otomobil firmasından sarı, kırmızı ve siyah spor otomobil sipariş vermişlerdir. Bu kişilerin sipariş verdikleri otomobiller ile ilgili bilinenler şunlardır:

- Her kişi sadece bir otomobil siparişi vermiştir.
- Semih ve Zeynel'in sipariş verdikleri otomobillerin rengi aynı değildir.
- Tarık'ın sipariş verdiği otomobilin rengi sarıdır.
- Üç kişi sarı, iki kişi kırmızı otomobil siparişi vermiştir.
- Alper ve Emine'nin sipariş verdikleri otomobillerin rengi aynıdır.

**Buna göre, aşağıdakilerden hangisi yanlıştır?**

- A) Yağız, siyah renkte bir otomobil siparişi vermemiştir.  
 B) Semih ve Tarık'ın sipariş verdikleri otomobillerin rengi farklıdır.  
 C) Yağız ve Zeynel, aynı renkte otomobil siparişi vermişlerdir.  
 D) Alper ve Zeynel aynı renklere otomobil siparişi vermişlerdir.



6. Aşağıdaki tabloda Emine, Cansu, Damla, Filiz, Gül ve Hayriye adlı kişilerin bir mağazadan satın almış oldukları kıyafetler işaretlenmiştir.

Alınan Kıyafetler				
Kişiler	Kazak	Elbise	Etek	Pantolon
I.		X		
II.	X	X	X	X
III.	X	X		X
IV.			X	
V.	X	X		X
VI.	X		X	

**Tabloda numaralanmış kişilerle ilgili bilinenler şunlardır:**

- Emine iki çeşit kıyafet satın almıştır.
- Damla ve Gül, aynı kıyafet çeşitlerini satın almışlardır.
- Hayriye, tüm kıyafet çeşitlerinden satın almıştır.
- Emine ve Filiz, etek satın almışlardır.
- Filiz'in satın aldığı kıyafet çeşidini, Cansu satın almamıştır.

**Buna göre, verilen bilgiler ve tablodan hareketle aşağıdakilerden hangisine kesin ulaşılmaz?**

- A) Cansu tek çeşit kıyafet almıştır.  
 B) II numaralı kişi Hayriye, VI numaralı kişi Emine'dir.  
 C) III numaralı kişi Damla, V numaralı kişi Filiz'dir.  
 D) IV numaralı kişi Filiz'dir.

7. 1, 2, 3, 4 ve 5 rakamları ile kodlanan Trabzon hurması, şeker pancarı, pirinç, domates ve mandalınanın bir bölgeden son beş yılda yapılmış satış sayıları aşağıdaki gibidir.

Yıllar	1	2	3	4	5
2014	75000	19000	39000	39000	51000
2013	51000	27000	19000	19000	75000
2012	27000	63000	39000	39000	19000
2011	19000	39000	27000	27000	39000
2010	27000	51000	75000	75000	27000

**Verilen ürünlerle ilgili bilinenler şunlardır:**

- Şeker pancarı ve mandalınanın satış miktarının en fazla olduğu yıl aynıdır.
- 2012'de en az satış miktarına sahip olan domates, 2010'da pirinç ile aynı miktarda satılmıştır.
- Trabzon hurmasının 2010'daki satış miktarı, şeker pancarından az; pirinçten fazladır.

**Verilenlere göre, 2014 yılında satış miktarı en fazla olan ürün aşağıdakilerden hangisidir?**

- A) Pirinç                      B) Şeker pancarı                      C) Domates                      D) Mandalina



2. Sabahattin Ali, gerek öyküleriyle gerek romanlarıyla edebiyatımızın en önemli isimlerinden biri. Sabahattin Ali'nin yazmış olduğu eserlerin bazılarının sırasıyla ilgili bilinenler şunlardır:
- Kağrı adlı eserini Kürk Mantolu Madonna'dan önce yazmıştır.
  - Kuyucaklı Yusuf adlı eserinden önce ve sonra yazdığı eserler vardır.
  - Kağrı adlı eserinden önce yazdığı sadece bir eser vardır.
  - Kürk Mantolu Madonna adlı eserini, Değirmen adlı eserinden sonra yazmıştır.

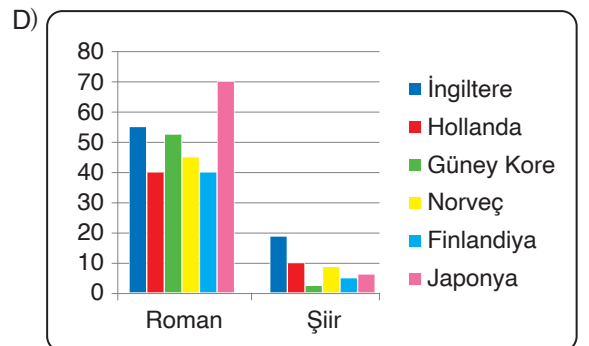
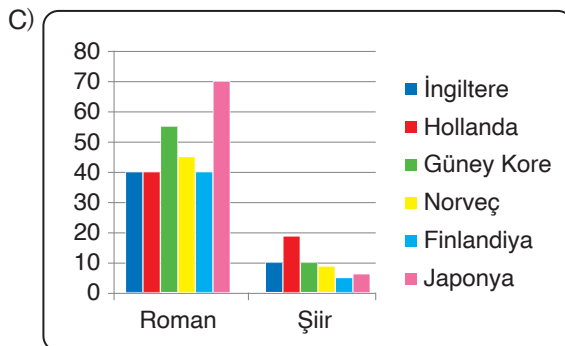
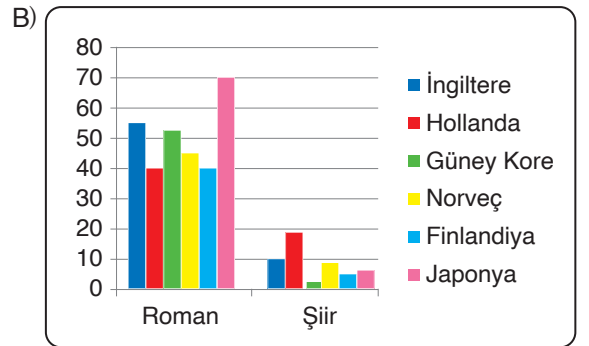
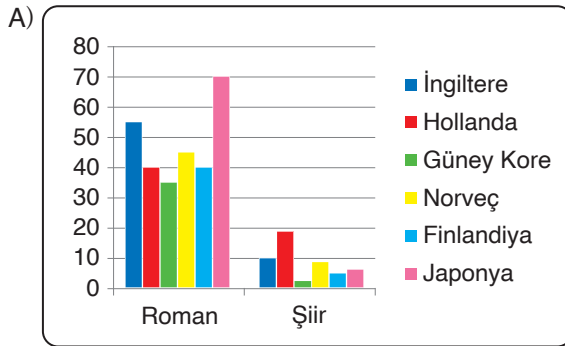
**Bu bilgilere göre, Sabahattin Ali'nin eserlerinin yazılış yılları ile ilgili aşağıdaki sıralamalardan hangisi doğrudur?**

	1935	1936	1937	1943
A)	Değirmen	Kağrı	Kuyucaklı Yusuf	Kürk Mantolu Madonna
B)	Kürk Mantolu Madonna	Değirmen	Kuyucaklı Yusuf	Kağrı
C)	Değirmen	Kağrı	Kürk Mantolu Madonna	Kuyucaklı Yusuf
D)	Kağrı	Kuyucaklı Yusuf	Değirmen	Kürk Mantolu Madonna

3. Dünya genelinde seçilen altı ülkede, okunan kitap türlerin oranını tespit etmek için yapılan bir araştırmanın sonuçları şu şekilde açıklanmıştır:

Roman okuma oranı en yüksek ülke %70 ile Japonya'dır. Japonya'yı %55 ile İngiltere, %53 ile Güney Kore izlemektedir. %40 oranına sahip iki ülke Hollanda ile Finlandiya olmuştur. Şiir türünde ise en dikkat çeken ülke %18 ile Hollanda olmuştur. İngiltere %10 ile ikinci sırada, Norveç %8 ile üçüncü sıradadır. Yapılan araştırmadaki diğer ülkeler şiir okuma oranında %8'in altında kalmıştır.

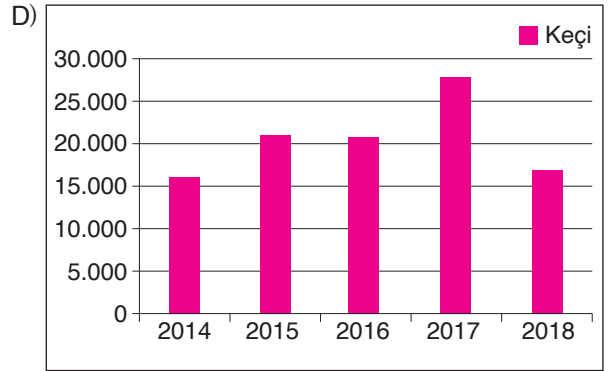
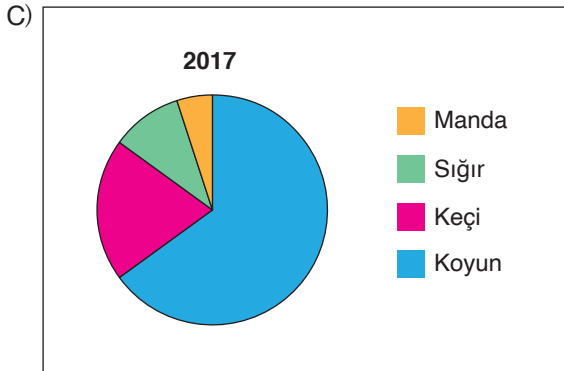
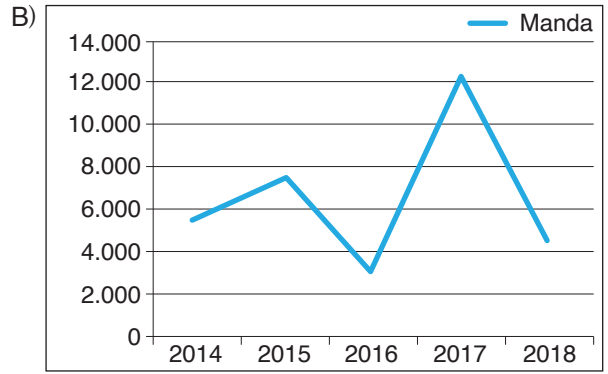
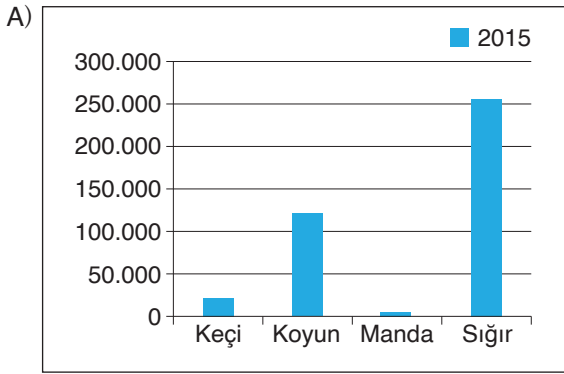
**Bu bilgilere göre, söz konusu ülkelerin okunan kitap türü analizini doğru gösteren grafik aşağıdakilerden hangisidir?**



4. Çizelge-1: Kesilen Hayvan Sayısı

Kesilen Hayvan	2014	2015	2016	2017	2018
Keçi	15.670	22.900	21.321	27.525	16.937
Koyun	97.014	120.000	104.451	105.058	147.219
Manda	5.245	7.500	3.780	12.337	4.219
Siğir	160.456	256.498	350.173	275.675	325.000

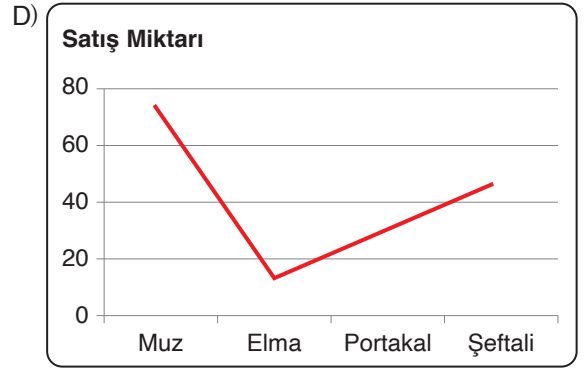
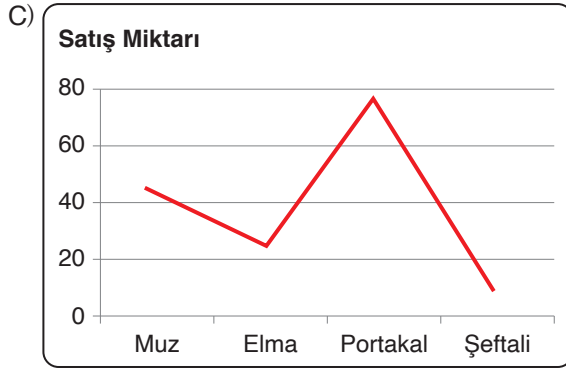
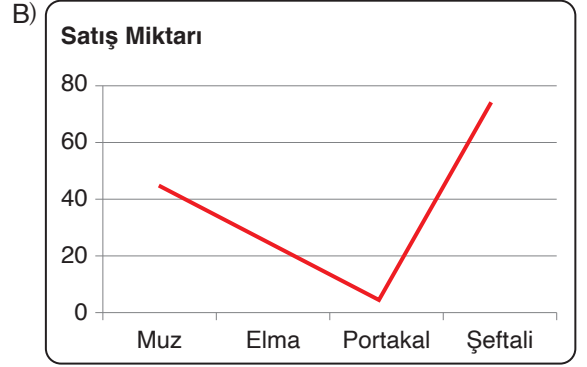
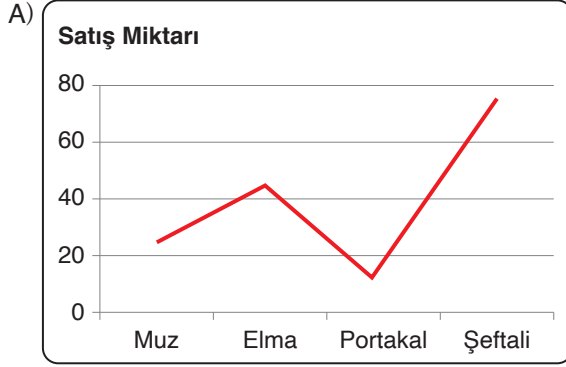
Aşağıdaki grafiklerden hangisi verilen tablodan hareketle oluşturulamaz?





5. Bir pazarcı çıktığı her pazarda elma, muz, şeftali ve portakal satmaktadır. Bu pazarcının sattığı muz miktarı, elma miktarından fazla; şeftali miktarından azdır. Sattığı portakal miktarı ise elma miktarından daha azdır.

Buna göre, bu pazarcının sattığı ürünlerin doğru gösterildiği grafik aşağıdakilerden hangisidir?



6. Verilen şekillerden oluşan bir kodlama sisteminde A, İ, H, L, S harfleri aşağıdaki gibi gösterilmiştir.



A



İ



H



L




S

Bu kodlama sistemine göre "SAHİL" sözcüğünün yazılışı aşağıdakilerden hangisidir?



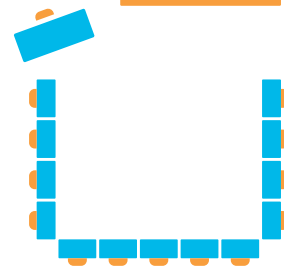
1. Eğitim-öğretimin niteliği birçok şeye bağlıdır ancak bunlardan biri var ki oldukça önemli: oturma düzeni. Sınıf oturma düzeninin belirlenmesindeki en önemli faktör eğitim ve öğretimde hangi yöntemin veya yöntemlerin kullanılacağıdır. Buna karar verecek olan kişi ders öğretmenidir. Amaca yönelik bazı oturma düzenleri şunlardır:

#### Sıralı (Geleneksel) Oturma Düzeni



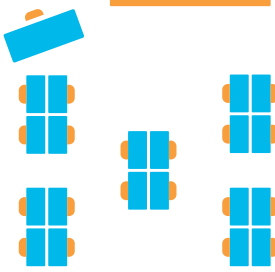
Geleneksel oturma düzeni en yaygın sınıf düzenlemesidir. Bu düzen, öğretmen temelli öğretim ve sunular etrafında dönen sınıfların tamamlayıcısı sayılır. Daha çok bağımsız yapılabilecek çalışmalar için kullanılır.

#### U Şekli veya At Nalı Oturma Düzeni




Bu model hem öğrenci-öğrenci etkileşimini hem de öğretmen-öğrenci etkileşimini destekler. Sınıf, geniş bir grup biçiminde etkileşime girer. Öğretmenlerin öğrencilerle birebir çalışma fırsatı vardır. U düzeni genellikle tartışmaların ve sunuların ön planda olduğu dersler için daha uygundur.

#### Küme (Ekip Çalışması) Oturma Düzeni



Masaları küçük gruplara ayırmak, öğrenciden öğrenciye etkileşimi teşvik eder. Bu düzende öğrencilerin iletişim, problem çözme, iş birliği vb. becerileri gelişir. Küme düzeni, öğrencilerin fikirlerini rahat ve güvenli bir şekilde paylaşmaları için çok uygundur. Bununla birlikte, bu güven ve rahatlık çeşitli görev dışı/kural dışı davranışların artmasına, gürültünün oluşmasına sebep olabilir.

#### Koşu Yolu (Pist) Oturma Düzeni

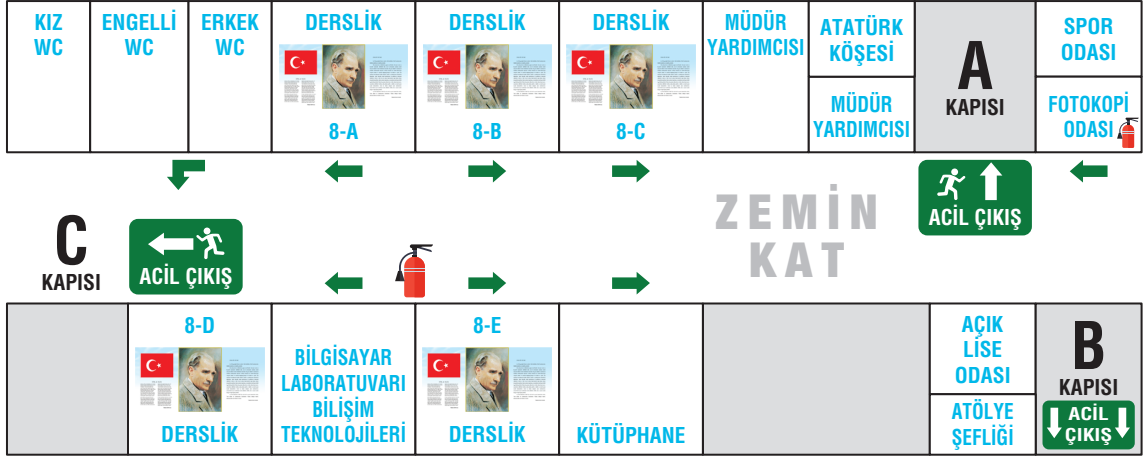


Küçük sınıflarda en iyi şekilde kullanılacak bu düzende eğitimci ön pladadır. Öğretmen dersleri yürütmek için karşılıklı iki sıra arasındaki alanı kullanır. Bu düzen ders tabanlı sınıflar ve tartışmalar için mükemmeldir. Özellikle yarışma, münazara gibi etkinlikler gerçekleştirilirken sınıfın iki gruba ayrılması gerektiğinde kullanılacak en uygun düzendir.

**Buna göre dersinde okuma saati yapacak olan Aysel Hanım, verilen oturma düzenlerinden hangisini kullanırsa amaca uygun hareket etmiş olur?**

- A) Küme oturma düzeni  
B) Koşu yolu oturma düzeni  
C) Sıralı oturma düzeni  
D) U şekli veya at nalı

## 1. Şekil: Acil Durum Tahliye Planı Zemin Kat

**ACIL DURUM, YANGIN VE TAHLİYE PLANI**

Verilen acil tahliye planına göre, aşağıdakilerden hangisi yanlıştır?

- A) Toplamda üç adet acil kapısı bulunmaktadır.  
 B) 8-A ve 8-C sınıfları acil durumda C kapısını kullanacaktır.  
 C) Acil durum sırasında kütüphanede bulunan öğrenciler B kapısını kullanacaklardır.  
 D) Verilen katta beş derslik bulunmaktadır.

## 2.

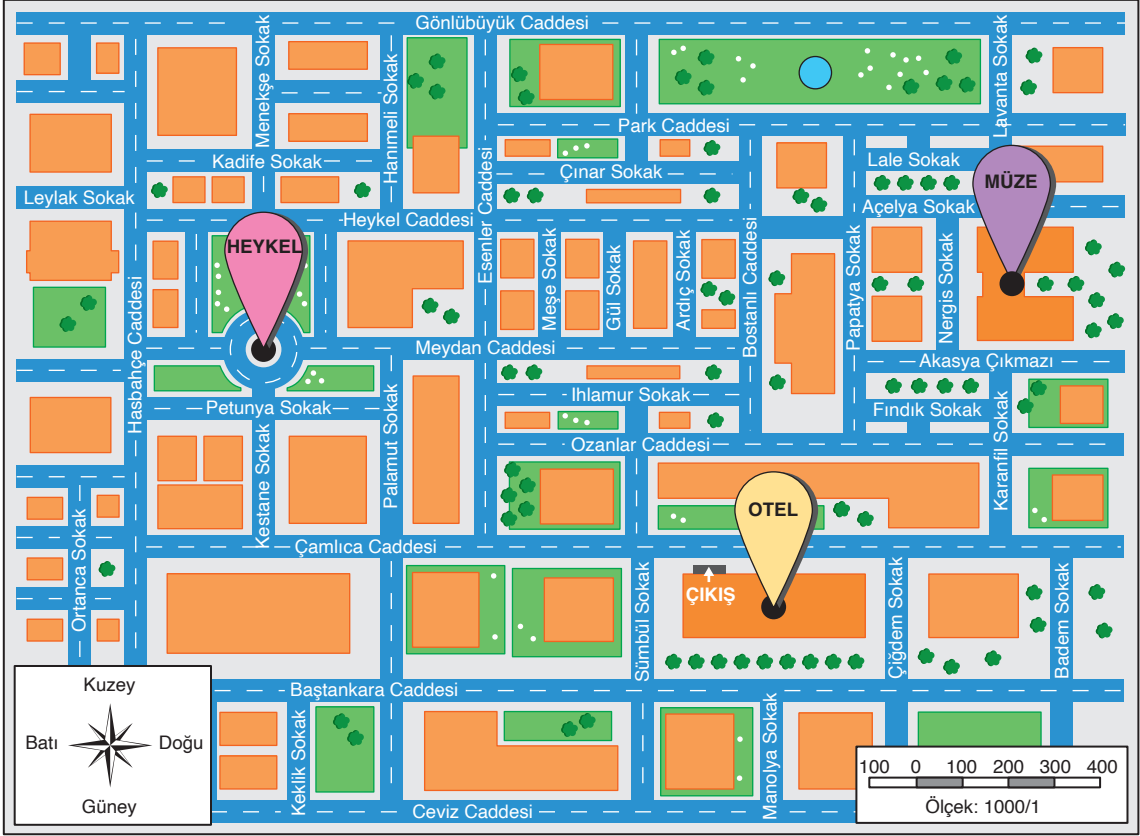
Ece babasının aldığı şiir, hikâye, roman, biyografi ve gezi yazısı türündeki kitaplarını iki katlı kitaplığına yerleştirmiştir. Bu kitapların yerleştirildikleri katlarla ilgili bilinenler şunlardır:

- Üç kitap türü birinci kata yerleştirilmiştir.
- Roman ve biyografi türündeki kitaplar aynı kata yerleştirilmiştir.
- Hikâye ve gezi yazısı türündeki kitaplar farklı katlara yerleştirilmiştir.

Buna göre aşağıdaki kitap türlerinden hangisi kesinlikle ikinci kata yerleştirilmiştir?

- A) Şiir                      B) Hikâye                      C) Roman                      D) Gezi yazısı

3.



Ahmet Bey, iş toplantısı için gittiği bir şehirde toplantı sonrası kaldığı otelden heykеле gidecektir.

**Buna göre aşağıdakilerden hangisi Ahmet Bey'e yapılabilecek en uygun yol tarifidir?**

- Çamlıca Caddesi üzerinden batıya doğru ilerleyin. Ortanca Sokak kesişimine geldikten sonra sağa dönün. Biraz ilerleyin ve Hasbahçe Caddesi kesişiminde sola dönün. Aradığınız yer solunuzda kalacak.
- Çamlıca Caddesi ile Sümbül Sokak kesişiminde sola dönün ve biraz ilerleyin. Baştankara Caddesi kesişiminde gelince sağa dönün. Aradığınız yer hemen solunuzda kalacak.
- Çamlıca Caddesi üzerinden batıya doğru ilerleyin. Çamlıca Caddesi ile Kestane Sokak kesişiminde gelince sağa dönün ve ilerleyin. Petunya Sokak'ı geçince heykел hemen karşınızda kalacak.
- Çamlıca Caddesi'nden Ozanlar Caddesi'ne doğru yürüyün. Ozanlar Caddesi'ne gelince sağa dönün ve biraz ilerleyin. Karanfil Sokak'a gelince sağa dönün. Aradığınız yer sağınızda kalacak.



4.

Bir şirketin halkla ilişkiler bölümüne personel olarak girmek isteyen Metin, Emre, Mustafa, Ahmet, Damla, İlnur, Suzan ve Buket adlı kişiler mülakata davet edilmiştir. Bu kişilerin mülakatları aynı gün içinde ve sırayla yapılmıştır. Bu kişilerle yapılan mülakatlarla ilgili bilinenler şunlardır:

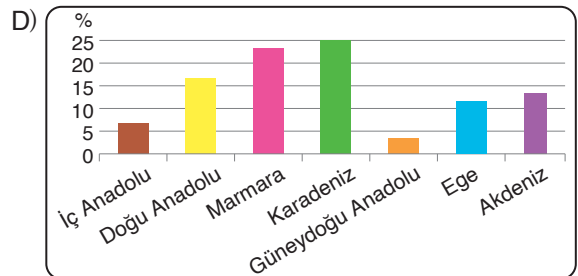
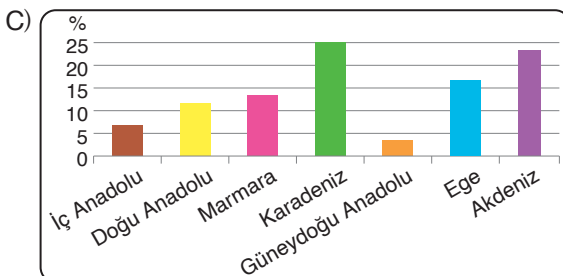
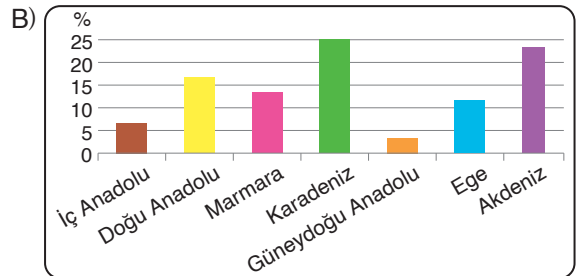
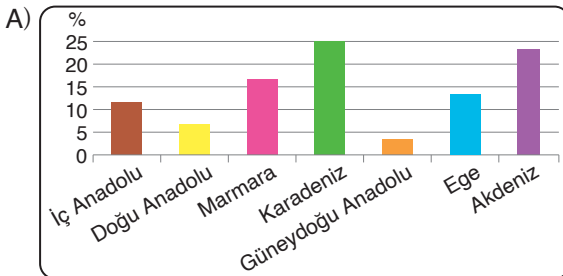
- Mülakat görüşmeleri saat 09.30'da başlamış ve personel adayları yarımşar saat arayla mülakata alınmıştır.
- 12.30'da öğle arası verilen görüşmelere 13.30'da yeniden başlanmıştır.
- Görüşmeye ilk giren kişi erkeklerden biridir.
- Öğleden sonra görüşmeye giren ilk kişi Damla'dır.
- Ahmet, mülakata 11.00'de girmiştir.
- Emre'den önce mülakata giren bir kişi vardır.
- Metin, mülakata Suzan'dan hemen sonra ve ara verilmeden önce girmiştir.

**Bu bilgilere göre aşağıdakilerden hangisi kesinlikle doğrudur?**

- A) Ahmet, mülakata Suzan'dan hemen önce girmiştir.  
 B) Damla, mülakat son sırada girmiştir.  
 C) İlnur, mülakata Mustafa'dan hemen sonra girmiştir.  
 D) Buket mülakata sondan ikinci sırada girmiştir.

5. Ülkemizin ormanlık alan dağılımında yüzde 25 ile Karadeniz Bölgesi ilk sırada geliyor. Akdeniz Bölgesi yüzde 24 ile ikinci sırada yer alırken orman alanı bakımından yüzde 17 ile Ege Bölgesi üçüncü, Marmara Bölgesi yüzde 13 ile dördüncü sırada yer alıyor. Doğu Anadolu Bölgesinde ormanlık alan yüzde 11 olurken İç Anadolu'da ise yüzde 7 olduğu belirlendi. En az ormanlık alana sahip olan bölge ise yüzde 3 ile Güney Doğu Anadolu Bölgesi oldu.

**Bu metne göre ülkemizdeki orman varlığının bölgelere göre dağılışını gösteren grafik aşağıdakilerden hangisidir?**





6. Üniversite öğrencileri Edanur, Ceyda ve Melih yaz tatilinde Sivas, Kırşehir, Manisa ve Samsun şehirlerini ziyaret etmişlerdir. Bu kişilerin ziyaret ettikleri şehirlerle ilgili bilinenler şunlardır:

- Her kişi iki şehre gitmiştir.
- Edanur'un gittiği şehirlerden biri Sivas'tır.
- Kişilerden birinin gittiği şehirler Kırşehir ve Manisa'dır.
- Melih'in gittiği şehirlerden biri Samsun'dur.
- İki kişi Samsun'a gitmiştir.
- Edanur ve Melih adlı kişilerin gittikleri şehirlerin hiçbiri aynı değildir.

**Buna göre aşağıdakilerden hangisi kesinlikle doğrudur?**

- A) Melih'in gittiği şehirler, Sivas ve Samsun'dur.  
 B) Kırşehir'e sadece Edanur gitmiştir.  
 C) Melih'in gittiği şehirler, Samsun ve Manisa'dır.  
 D) Ceyda'nın gittiği şehirler, Kırşehir ve Manisa'dır.

7.

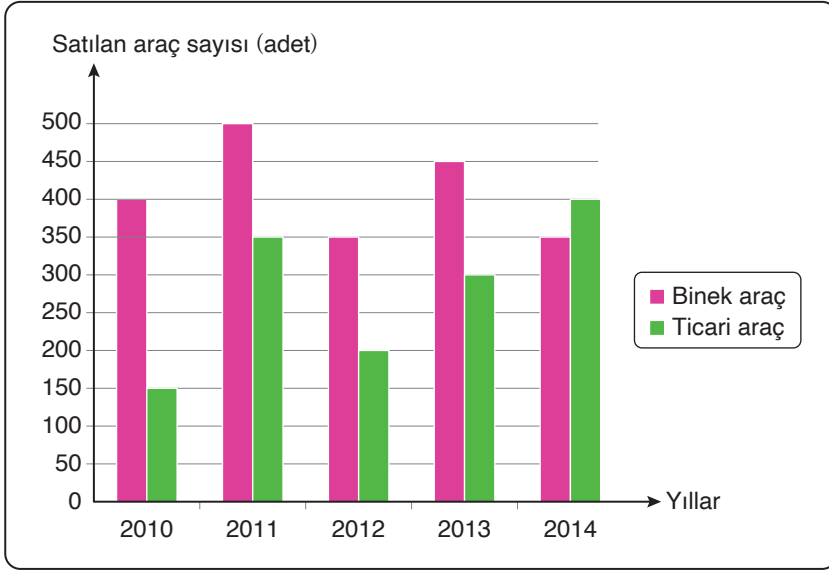


- I. Akıl sağlığı için yararlıdır.  
 II. Ağrılarınızın azalmasını sağlar.  
 III. Kalp-damar hastalığı riskini azaltır.

**Verilen bilgilendirme grafiğinde bazı simgelere ait açıklama bölümleri boş bırakılmıştır. Bu simgeler ve numaralanmış cümleler eşleştirildiğinde doğru sıralama aşağıdakilerden hangisi olur?**

- A) I – II – III      B) II – I – III      C) II – III – I      D) III – II – I

1.



Bu grafikte bir ilde bazı yıllarda satılan binek ve ticari araç sayıları verilmiştir.

**Bu grafikten hareketle aşağıdakilerden hangisi söylenemez?**

- A) Binek araç satışı her yıl en fazla olmuştur.
- B) Ticari araç satışı en fazla 2014 yılında olmuştur.
- C) Binek araç ile ticari araç satış farkının en az olduğu yıl 2014'tür.
- D) Ticari araç satışı yıllara göre dalgalanmalar göstermiştir.

2.

Halk eğitim merkezinde açılan dikiş nakış ve ebru kurslarına Baki, Cihan, Esin, Gamze ve Sinem adlı kişiler kaydolmuştur. Bu kişilerin katıldıkları kurslarla ilgili bilinenler şunlardır:

- Her kişi bir kursa kaydolmuştur.
- Erkekler birbirinden farklı kurslara kaydolmuştur.
- Esin ve Gamze birlikte ebru kursuna kaydolmuşlardır.
- Dikiş nakış kursuna iki kişi kaydolmuştur.

**Verilenlere göre aşağıdakilerden hangisi kesinlikle yanlıştır?**

- A) Cihan, ebru kursuna kaydolmuştur.
- B) Baki, dikiş nakış kursuna kaydolmuştur.
- C) Sinem, ebru kursuna kaydolmuştur.
- D) Cihan ve Gamze aynı kursa kaydolmuştur.



3.



**Bu görselden hareketle oluşturulacak bir metinde aşağıdakilerin hangisinden söz edilmesi beklenir?**

- A) Teknolojinin yaygınlaşması
- B) İnternet kullanımının faydaları
- C) İnternet bağımlılığı
- D) Güvenli internet kullanımı

4.



Kurs çıkışı yemek yemek için lokantaya giden Ahmet, Berat, Hüsnü, Canan, Duygu, Elif ve Fatma adlı yedi arkadaş; pide, beyti ve lahmacun seçeneklerinden birini seçmişlerdir. Bu kişilerin seçimleri ile ilgili bilinenler şunlardır:

- Elif, pideyi seçmiştir.
- Erkeklerden iki, kızlardan bir kişi lahmacunu seçmiştir.
- Berat, Canan ile aynı yemeği seçmiştir.
- Beyti yiyen sadece iki kız vardır.
- Duygu, Berat ve Canan'dan farklı bir yemek yemiştir.

**Bu bilgilere göre aşağıdakilerden hangisi kesinlikle yanlıştır?**

- A) Berat ve Canan, pide yemiştir.
- B) Ahmet, pide yemiştir.
- C) Hüsnü, lahmacun yemiştir.
- D) Ahmet ve Elif farklı yemeklerden yemiştir.

5. Aşağıdaki görsellerden hangisi herhangi bir ileti içermemektedir?



6. Gizem, Levent, Meryem, Nazlı ve Soner adlı öğrenciler Türkçe dersinden proje ödevi almışlardır. Bu öğrencilerin projelerini bitirme sırasıyla ilgili bilinenler şunlardır:

- Soner, proje ödevini Nazlı'dan hemen önce bitirmiştir.
- Proje ödevini Meryem'den hemen sonra bitiren kişi bir kız öğrencidir.
- Levent, proje ödevini Gizem'den hemen sonra bitirmiştir.

Buna göre proje ödevini ilk bitiren kişinin Soner olduğu biliniyorsa proje ödevini en son bitiren kişi aşağıdakilerden hangisidir?


A) Nazlı

B) Levent

C) Meryem

D) Gizem

7.



**Bu görseli en iyi ifade eden metin aşağıdakilerden hangisidir?**

- A) Küçük bir evimiz vardı. Babam senelerce çalışmış, elde ettiği kazançla ancak bunu satın alabilmişti. Bu küçük ama şirin evimizde akşamları ailece oturur, sohbet ederdik. Kardeşimle birlikte bir şeyler okur, anne ve babamıza anlatırdık.
- B) Babam yine her zamanki koltuğunda oturuyordu. Elinde eskilerden kalma bir gazete, ayağında bir terlik... Bizse annemle birlikte radyonun başındaydık. Okuldan gelir gelmez bu radyoyu açar, sıradaki radyo tiyatrosunun başlamasını beklerdik.
- C) En büyük eğlencemizdi okuldan gelince ailemle birlikte çizgi film izlemek. Annem de babam da buna asla karşı çıkmaz, biz mutlu olalım isterlerdi. Annem çoğu zaman bizimle çizgi film izler, babamsa o meşhur koltuğunda gazete okurken arada bir ekrana göz atardı. Kardeşim Pervin gözlerini çizgi film kahramanlarından bir saniye olsun ayırmazdı. Çok güzel günlerdi.
- D) Babam sonunda söz verdiği o televizyonu almıştı bize. Yıllarca dil dökmüş ancak bir türlü aldramamıştık. Televizyonun geldiği gün üç kardeşimle birlikte yatana kadar kalkamadık başından. Çok az kanal olsa da karşımıza ne çıktıysa izledik. Annem her ne kadar buna karşı çıksa da o da bize eşlik etmişti gece boyu.