

# TÜRKÇE

6.  
SINIF

1. Dikiş tutmayan bir ışıktı. Bu yüzden perdenin  
I  
arasından sızması beni rahatsız etmiyordu.  
II  
Işığın en güzel olanı, dikiş tutmayanıydı zaten.  
Ama perde kelimesini “açmak” yerine “örtmek”  
III  
kelimesiyle yan yana kullanmak isteyen iki  
yolcunun arasında oturuyordum.  
IV

**Bu metinde numaralanmış sözcüklerin hangisi kök hâindedir?**

- A) I. B) II. C) III. D) IV.

2. **Aşağıdakilerin hangisinde altı çizili sözcük “-mak / -mek” ekini alabilir?**

- A) Sendeki bu hâl beni çok endişelendiriyor.  
B) Ağaçtaki ham meyveleri koparınca eniştem çok kızardı.  
C) Aramızdaki bu sır asla başka kimse tarafından bilinmeyecek.  
D) Ödevlerini defterine yaz ve bahçeye yanımıza gel.

3. “-lık (-lik, -luk, -lük)” eki eklendiği isme yer, araç gereç, meslek, topluluk... anlamları katar.

**Buna göre “-lik” eki aşağıdaki altı çizili sözcüklerden hangisine araç gereç anlamı katmıştır?**

- A) Antalya’daki zeytinlik dayısının oğluna satılmış.  
B) Çantasından kalemliğini çıkardı ve masanın üzerine koydu.  
C) Aramızdaki düşmanlık seneler sonra yok oldu.  
D) Dün pazardan kışık patates alıp kilere yerleştirdik.

- 4.

Sözcük	Kökü isimdir.	Kökü fiildir.
I. Sensizlik	✓	
II. Suladı		✓
III. Sevgi		✓
IV. Kömürlük	✓	

**Tabloda verilen sözcüklerden hangisiyle ilgili işaretlemeye yanlışlık yapılmıştır?**

- A) I. B) II. C) III. D) IV.

5. Her mevsimin dönence iklimleriyle yıkadıkça  
I  
yüzümüzü, aynı döner dünya, aynı bakışlarla  
II III

ve kendini saran bir hüzün yumağınca.

Yıldızların ötesinde bir koy vardır belki de

IV

sevdaya sarmak için bizi bekleyen.

**Bu metinde numaralanmış sözcüklerden hangisi hem iyelik hem hâl eki almıştır?**

- A) I. B) II. C) III. D) IV.

6. **Aşağıdaki cümlelerin hangisinde “-lar / -ler” eki “aile” anlamında kullanılmıştır?**

- A) Beyefendiler hâlâ ara vermeksizin uyuyor.  
B) Bahçeye sekiz yaşlarında bir kız çocuğu koşarak girdi.  
C) Saat dokuz gibi Cerenler hastanenin önünde ufak bir kaza atlatmışlar.  
D) Aradığı eşyayı bulabilmek için günlerce çarşı pazar gezdi.

7. Aşağıdaki cümlelerin hangisinde altı çizili sözcük hem yapım hem de çekim eki almıştır?

- A) Ağrılı bir günün kanatlarını sallıyor rüzgâr, gıcirtılarsa özlemin pervazlarını.  
 B) Dil kavrar tutkuyu, el sarar utkuyu, göz yangın yerinde sarar ıslanmış bir havluyu.  
 C) Bütün derinliklerin yol ayrımlarında bir taşın yuvarlanması ve düşüşü gibidir hayatın akışı.  
 D) Yolculuk düşlerine yazgımızı sararken kelimelerle dağlarız yanık yüreklerimizi.

8. Rüzgâr uzak karanlıklara sürmüş yıldızları  
I

Mor kıvılcımlar geçiyor dağınık yalnızlığımdan  
II

Ağır yanık sızıları  
III

Bir yerlere yıldırım düşüyorum  
IV

Bu dizelerde numaralanmış sözcüklerden hangileri kök hâindedir?

- A) I ve II. B) I ve III.  
 C) II ve III. D) III ve IV.

9. Aşağıdaki cümlelerin hangisinde altı çizili sözcük hem yapım eki hem hâl eki almıştır?

- A) Akşam saatleri sokaktan gelen seslerden rahatsız oldular.  
 B) İzledikleri televizyonun ekranını parlattığı için rahatsız oluyorlardı.  
 C) Ön koltukta oturan kişi, perdenin arasından sızan ışığı kapatmak için bütün dünyayla kavga edebilecek kadar öfkeliydi.  
 D) Dikkatim dağılıp sinirlerim bozulunca kitabı bıraktım.

10. Aradan yarım dakika geçmeden elimdeki  
I

kitapta üç satır bile ilerlememişken önümdeki  
II

adam ilkinden daha hışım ile dönerek ilkinden daha da sert bana baktı. Ben de ona baktım.  
III

Ne olduğunu kavrayamamış bakışlarla... İlk sözü birbirimizden bekledik. Beklemekten  
IV

yorulunca o önündeki ekrana döndü, ben kitabıma.

Bu metinde numaralanmış sözcüklerden hangisi hâl eklerinden birini almamıştır?

- A) I. B) II. C) III. D) IV.

11. Aşağıdaki altı çizili sözcüklerden hangisinin kökü diğerlerinden farklıdır?

- A) Bu hafta sonu kızı ve geliniyle gün boyu temizlik yapacak.  
 B) Bu korku ile sabahın karanlığında okula nasıl gidecek?  
 C) Onun bu gidişle hiç akıllanacağı yok.  
 D) Her vatandaşın görevlerinden biri de vergi vermektir.

12. I. Nefesinin kokusu burnuma kadar ulaştı.  
 II. Aslında inatçı biri değilimdir ama bu sefer fena inat ettim.  
 III. Elimdeki kitaba odaklanmamı engelledikleri için sinirlenmeye başladım.  
 IV. Annem, gelirken iki ekmek al, dedi.

Numaralanmış cümlelerin hangisinde isim çekim eki almış bir sözcük yoktur?

- A) I. B) II. C) III. D) IV.

1. Bir eylemin hangi gerekçeyle yapıldığını bildiren cümlelere neden-sonuç (sebeup-sonuç) cümleleri denir.

**Buna göre, aşağıdaki cümlelerin hangisinde neden-sonuç ilişkisi vardır?**

- A) Zamanımı iyi kullanamadığım için şu an o beni kullanıyor.  
B) Heyecanınız yoksa her şeyinizi kaybetmişsiniz demektir.  
C) Duygu ve aklın savaşını her zaman akıl kazanmıştır.  
D) İşlerimiz bu aralar oldukça yoğunlaştı.

2. Bir olayın veya durumun gerçekleşmesinin, başka bir olayın veya duruma bağlı olduğunu belirten cümlelere koşul-sonuç (şart-sonuç) cümleleri denir. Örneğin "Ödevlerini yaparsan dışarı çıkarız." cümlesinde dışarı çıkma eyleminin koşulu ödevlerin yapılmasıdır.

**Buna göre, aşağıdaki cümlelerin hangisinde koşul-sonuç ilişkisi söz konusudur?**

- A) Çıkan haberleri yalanlamak için basın açıklamaları yaptı.  
B) Yemeğin tuzu çok olduğundan eleştirilerin hedefi hâline geldi.  
C) Hatalarını kabul edersen işlerini daha kaliteli yaparsın.  
D) Bu hafta keşke arkadaşlarımla sinemaya gitsek

3. I. Hep aynı şeyleri söylediği için dinleyiciler sıkıldı.  
II. Gece saat on iki oldu mu beni uyandır.  
III. Hasret gidermek için dün gece teyzemlerde kaldım.  
IV. Hayatın anlamını anlarsan bana da anlat.  
V. Deneme sınavına girmediğinden öğretmenlerden azar işitti.

**Numaralanmış cümleler anlam ilişkilerine göre ikişerli gruplandırılırsa hangisi dışarda kalır?**

- A) I. B) II. C) IV. D) V.

4. **Aşağıdaki cümlelerin hangisinde neden-sonuç ilişkisi vardır?**

- A) Bu önemli günde sizinle beraber olmak mutluluk verici.  
B) İyi antrenman yaparsan başarılı olacağına inanıyorum.  
C) Fatih, kardeşine bir bakış atıp eşyalarını çantaya tıktırmaya başladı  
D) Sekiz yıl Almanya'da kaldığı için ülkesini çok özlemişti.

5. "Çocuk ilk eğitimini ailede alır." **cümlesiyle anlamca benzerlik gösteren cümle aşağıdakilerden hangisidir?**

- A) Çocuk, bilinçli bir aile sayesinde başarılı olur.  
B) Aile, çocuk eğitiminde oldukça önemlidir.  
C) Anne ve baba çocuğun ilk öğretmenleridir.  
D) Anne, baba ve çocuk ilişkisi kritiktir.

6. (I) Yaşar Kemal, sanırım bize bizden daha yakın olan bu değerli insanların başında geliyor. (II) Çünkü memleketin her köşe başında ona rastlıyor gibiyiz. (III) İstanbul'un en ıssız kaldırımında görmek de mümkün onu, sırtında çocuğuyla hasat toplayan bir kadının gözlerinde de. (IV) Her yörede kendine bir köşe başı tutmayı başarmış ince ruhlu bir adam o.

**Bu metinde numaralanmış cümlelerle ilgili aşağıda verilen bilgilerden hangisi yanlıştır?**

- A) I. cümlede değerli olduğu düşünülen bir insandan söz edilmiştir.  
B) II. cümlede adı geçen kişinin fiziksel özelliklerinden bahsedilmiştir.  
C) III. cümlede çeşitli örneklemelere yer verilmiştir.  
D) IV. cümlede bahsedilen kişinin kibar ve naifliğinden söz edilmiştir.



7. I. İnsanları anlamak için şehir şehir geziyor.  
II. Ödevlerini yapmak üzere arkadaşlarının evinde buluştular.  
III. Artvin'in harika bir manzarasını gördüğünden beri kendime gelemiyorum.  
IV. Çocukluk dönemi yoksullukla geçince birçok şeyi yaşayamadan büyüdü.

**Numaralanmış cümlelerden hangileri amaç-sonuç ilişkisi taşımaktadır?**

- A) I ve II. B) I ve III.  
C) II ve III. D) II ve IV.

8. (I) Haber eskiden gazeteden okunurdu. (II) Memurların hepsi gazete alır, günün haberleri gün boyu konuşulurdu. (III) Ama şu an internet ve televizyonların etkisinden olsa gerek artık gazete tirajları çok düşük. (IV) Memurlar da dâhil artık kimse o gazetelerin hamurumsu kokusunu hissedemiyor.

**Bu metinde numaralanmış cümlelerin hangisinde sebep-sonuç ilişkisi vardır?**

- A) I. B) II. C) III. D) IV.

9. Yakınımızda bulunmayanların özlemine, acısına daha kolay dayanabiliriz.

**Bu cümleye anlamca en yakın olan cümle aşağıdakilerden hangisidir?**

- A) Sevdiklerimizin özlem ve ayrılıklarına dayanmak zordur.  
B) Uzakta olan sevdiklerimizin hasretine katlanmak kolaydır.  
C) Her zaman gördüğümüz insanları hiç özlemeyiz.  
D) Uzakta ya da yakında olsun sevilen kişi her zaman özlenir.

10. Hakkımızın yendiği yerde susup sonuca katlanmak doğru değildir.

**Aşağıdaki cümlelerin hangisi anlamca bu cümle ile çelişmektedir?**

- A) Haksızlık yapıldığında hak aramak, yerinde ve doğru bir davranıştır.  
B) Adaletsizlik ve haksızlıklara tahammül etmek erdemli insan davranışıdır.  
C) Yapılan haksızlıklara karşı mücadele etmek takdir edilecek bir davranış şeklidir.  
D) Haksızlık içeren davranışlara sabır göstermek ve sessiz kalmak yanlıştır.

11. I. Veli toplantısına hafta sonu babası da katılmış.  
II. Söylediğin sözler kimseye artık inandırıcı gelmiyor.  
III. Sarı saçlı minik çocuk tam altı aydır bu çileyi çekiyormuş.  
IV. Şu saatte dışarı çıkmak akıl kârı bir iş değil.

**Numaralanmış cümlelerin hangilerinde örtülü anlam söz konusudur?**

- A) I ve II. B) I ve III.  
C) II ve III. D) III ve IV.

12. Aşağıdaki cümlelerin hangisinde sebep-sonuç ilişkisi vardır?

- A) Yer bulabilmek için stadyuma erkenden gittik.  
B) Hayal kurmak hayatın en vazgeçilmez olgusudur.  
C) Müfettiş dosyayı ayrıntılı bir şekilde inceledi.  
D) Seninle konuştum diye öğretmen beni azarladı.

# MATEMATİK

6.  
SINIF

1.



Ebru'nun kalemlerinin sayısı, Betül'ün kalemlerinin sayısının 2 katıdır.

**İkisinin toplam 54 kalemi olduğuna göre Betül'ün kaç kalemi vardır?**

- A) 18      B) 24      C) 30      D) 36

2. Denge de olan bir terazinin sol kefesinde 1 kavun ile her biri 2 kg gelen 6 karpuz, diğer kefesinde ise her biri 7 kg gelen 2 karpuz vardır.

**Buna göre, bir kavun kaç kilogramdır?**

- A) 1      B) 2      C) 3      D) 4

3.

Gram Altın	Çeyrek Altın
	

240 TL

400 TL

Yukarıda 1 gram altın ve 1 adet çeyrek altının fiyatları verilmiştir.

**Kuyumcudan yatırım amaçlı altın alan Ayşe Hanım, 12 gram altın, 5 çeyrek altın aldığına göre, kuyumcuya kaç lira ödeme yapar?**

- A) 3880      B) 4680  
C) 4880      D) 4980

4.



Çiçek markette 5 kilogram pirincin fiyatı 40 TL'ye, Bilgin markette ise aynı pirincin 10 kilogramının fiyatı 60 TL'ye satılmaktadır.

**Buna göre, 1 kg pirincin fiyatı Çiçek markette, Bilgin markete göre kaç TL fazladır?**

- A) 1      B) 2      C) 3      D) 4

5.



Ankara'da toplu taşıma öğrenci biletleri 175 kuruş, tam biletler ise 250 kuruştur.

**Bir belediye otobüsü bir seferde 40 öğrenci ve 30 tam bilet sahibi yolcu taşıdığına göre, belediye otobüsünün bu seferde elde ettiği kazanç kaç TL'dir?**

- A) 145      B) 140      C) 135      D) 130

6.



Bir otelde odalar iki veya üç yataklıdır. Bu otelde toplam oda sayısı 25 olup, bu odalardan 12 tanesi iki yataklıdır.

**Buna göre bu oteldeki odalarda toplam kaç yatak bulunmaktadır?**

- A) 53      B) 60      C) 63      D) 65

7.



240 kasa meyve, üç farklı kapasitedeki arabalarla taşınacaktır. 1.arabanın kapasitesi bir seferde 3 kasa, 2.arabanın kapasitesi bir seferde 7 kasadır.

**Arabaların her biri eşit sayıda ve tam kapasite sefer yaptığına göre, arabalardan biri toplam kaç sefer yapmıştır?**

- A) 24      B) 25      C) 26      D) 27

8.



Dört kardeşin yaşları toplamı 39'dur.

**Kaç yıl sonra kardeşlerin yaşları toplamı 55 olur?**

- A) 4      B) 8      C) 12      D) 16

9.

Toplamı 109 olan iki doğal sayıdan biri, diğ-  
erinden 41 fazladır.

**Buna göre, büyük sayının rakamları toplamı kaçtır?**

- A) 75      B) 68      C) 34      D) 12

10.

Ardışık üç doğal sayının toplamı 381 ise bu sayılardan küçük olanı kaçtır?

- A) 126      B) 127      C) 128      D) 129

## ONDALIK GÖSTERİM

Ondalık Gösterimlerle Yapılan İşlemlerin Sonucunu Tahmin Etme

Test - 5

1.



49,90 TL



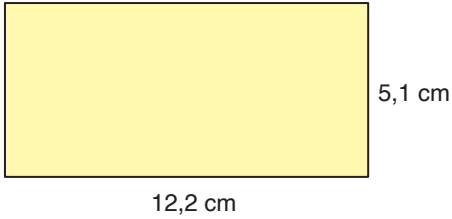
29,95 TL

Aylin yukarıda fiyatları verilen pantolon ve tişörtten birer tane almıştır.

**Buna göre Aylin'in alışverişi yaklaşık kaç TL tutmuştur?**

- A) 76      B) 80      C) 82      D) 85


2. Aşağıda kenar uzunlukları yazılı olan bir dikdörtgen verilmiştir.



**Bu dikdörtgenin alanının tahminî sonucu kaç santimetrekaredir?**

- A) 60      B) 62      C) 64      D) 68

3.



Bir markette kavunların kilogramı 1,45 TL'den satılmaktadır.

**Bu markette ağırlığı 5,8 kg olan kavunun fiyatı yaklaşık kaç TL'dir?**

- A) 8      B) 8,5      C) 9      D) 9,5

4.



Adem Bey içinde 52 kg pirinç olan çuvaldaki pirinçleri her biri içine eşit miktarda pirinç alan 100 tane poşete dolduracaktır.

**Bu iş için kullanılan poşetlerin her birinde yaklaşık kaç kilogram pirinç vardır?**

- A) 0,4      B) 0,5      C) 0,6      D) 0,7

5 ve 6. soruları aşağıdaki tabloya göre cevaplayınız.

Aşağıda bir kuru yemişçide satılan ürünlerin fiyatları gösterilmiştir.

**Tablo:** Kuru Yemişçideki Ürünlerin Fiyatları

Ürün	Fiyat (TL)
Fındık	41,2
Fıstık	55,8
Badem	60,3
Leblebi	24,2

5. Bu kuru yemişçiden 1450 gr fındık, 950 gr fıstık alan bir müşteri yaklaşık kaç TL öder?

- A) 108      B) 110      C) 116      D) 118

6. Bu ürünlerin her birinden birer kilogram alan bir müşteri 200 TL vermiştir.

**Müşterinin aldığı para üstü yaklaşık kaç TL'dir?**

- A) 12      B) 15      C) 16      D) 19

7.




Doğduğunda 2,050 kg olan bir bebek her ay yaklaşık 1,2 kg almaktadır.

**Buna göre, bu bebeğin 6. ayın sonundaki kilosu yaklaşık kaç kilogramdır?**

- A) 7      B) 8      C) 13      D) 14

8.



Bir tür çikolatanın 100 gramında yaklaşık olarak 38,2 gram yağ bulunmaktadır.

**Buna göre, 250 gramlık bir çikolata paketinde bulunan yağ miktarı yaklaşık kaç gramdır?**

- A) 100      B) 110      C) 120      D) 125

# **FEN BİLİMLERİ**

**6.  
SINIF**



1. Güneş sistemindeki bazı gezegenler ile ilgili bilgiler aşağıda verilmiştir.

- Yüzeyinde kırmızı renkte kaya ve toz parçaları bulunduğundan dolayı "Kızıl Gezegen" olarak da isimlendirilir.
- Güneş sisteminin en büyük 2. gezegenidir.
- Kendi ekseninde kutbu Güneş'e bakacak şekilde tekerlek gibi yatay olarak döner.

**Buna göre hangi gezegen hakkında bilgi verilmemiştir?**




2. Teleskobuyla gökyüzüne bakan Emine, aşağıdaki doğa olayına şahit oluyor.



**Bu olay ile ilgili olarak Emine'nin söylediği aşağıdaki ifadelerden hangisi yanlıştır?**

- A) Meteorların gökyüzünde ışık demeti oluşturmasıdır.
- B) Bu olaya halk arasında kayan yıldız veya yıldız kayması denir.
- C) Meteorlar, gök taşlarının birbirleriyle çarpışması sonucu oluşur.
- D) Meteorların büyük bölümü sürtünmenin etkisiyle ısınır ve yanarak buharlaşır.

3. Aşağıda Güneş sistemindeki sekiz gezegen ve bu gezegenlerden bazıları harflerle gösterilmiştir.



**Buna göre K, L ve M gezegenleriyle ilgili aşağıdaki ifadelerden hangisi doğrudur?**

- A) K ve L iç gezegen, M ise dış gezegendir.
- B) Sadece M gezegeninin halkası vardır.
- C) K ile L gezegenleri arasında asteroit kuşağı bulunur.
- D) Sadece K gezegeninin uydusu yoktur.

4. Gezegenlerin büyükten küçüğe göre sıralaması: "Jüpiter – Satürn – Uranüs – Neptün – Dünya – Venüs – Mars – Merkür" şeklindedir.



**Buna göre,**

- I. Güneş'e en uzak dört gezegenin büyüklükleri diğer gezegenlere göre fazladır.
- II. Güneş'e yaklaştıkça gezegenlerin büyüklükleri düzgün bir şekilde azalmaktadır.
- III. Güneş'e yaklaştıkça gezegenlerin büyüklükleri düzgün bir şekilde artmaktadır.

**İfadelerinden hangileri söylenebilir?**

- A) Yalnız I.                      B) I ve II.
- C) I ve III.                      D) I, II ve III.

5. Bir öğrenci okul laboratuvarında bulunan ve gezegenlerin Güneş'e olan uzaklıklarına göre tasarlanan Güneş sistemi modelindeki gezegenleri aşağıdaki gibi Güneş'in sağına ve soluna gelecek şekilde iki gruba ayırıyor.



Buna göre öğrenci bu iki grubu gezegenlerin,

- I. Uydularının olup olmaması
- II. Halkalarının olup olmaması
- III. İç gezegen veya dış gezegen olmaları

hangi özelliklerine göre belirlemiş olamaz?

- A) Yalnız II.                      B) I ve III.  
C) II ve III.                      D) I, II ve III.

6. Güneş sisteminde bulunan K, L, M ve N gezegenleri Güneş'e yakından uzağa doğru K-L-M-N şeklinde sıralanmıştır.

**N gezegeni Satürn olduğuna göre; K, L ve M gezegenleri aşağıdakilerden hangisi olabilir?**

	K	L	M
A)	Merkür	Dünya	Venüs
B)	Merkür	Dünya	Neptün
C)	Dünya	Jüpiter	Uranüs
D)	Dünya	Mars	Jüpiter

7. Güneş sisteminin beş milyar yıl önceki oluşumu sırasında ortaya çıkan, aşınmış kaya ve metal parçalarına asteroit denir.



**Asteroitlerle ilgili,**

- I. Jüpiter ve Mars'ın yörüngeleri arasında ve Güneş'e farklı konumlarda bulunurlar.
- II. Bazen bir asteroit, diğer bir asteroitle çarpışabilir.
- III. Güneş'in etrafında dolanırlar.

**ifadelerinden hangileri doğrudur?**

- A) Yalnız II.                      B) I ve III.  
C) II ve III.                      D) I, II ve III.

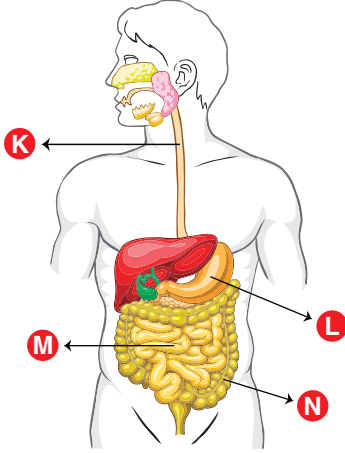
8. Atmosferden yarımadan geçerek yeryüzüne kaya olarak düşen meteor parçalarına gök taşı denir. Gök taşının yeryüzüne ulaştıktan sonra oluşturduğu çukura göktaşı çukuru denir. Geçmişte bazı büyük gök taşları Dünya'ya çarpmıştır.



**Bu açıklamaya göre aşağıdaki ifadelerden hangisine ulaşılamaz?**

- A) Bazı meteorlar yeryüzüne ulaşabilecek kadar büyüktür.
- B) Meteorların tamamı yeryüzüne düşebilir.
- C) Gök taşları düştükleri yerlerde ciddi hasarlara neden olabilir.
- D) Atmosferde bulunan gazlar sürtünmenin etkisiyle meteorları parçalar.

1. Sindirim sisteminde görevli yapı ve organlar aşağıdaki görselde harflendirilerek verilmiştir.



**Bu organ ve yapılarla ilgili aşağıdaki ifadelerden hangisi yanlıştır?**

- A) K, besinlerin yutaktan mideye iletilmesini sağlar.  
 B) L, besinlerin sadece kimyasal sindirimini gerçekleştirir.  
 C) M, besinlerin kimyasal sindirimini bittiği yerdir.  
 D) N; su, vitamin ve minerallerin kana geçmesini sağlar.

2. Aşağıda sindirim sisteminde görevli bazı yapı ve organlar verilmiştir.

- Kalın bağırsak → Pankreas  
 → Mide → İnce bağırsak  
 → Yutak → Karaciğer

**Bu yapı ve organlardan hangileri besin maddeleriyle doğrudan temas hâlinde değildir?**

- A) Pankreas – Karaciğer  
 B) Kalın bağırsak – Pankreas  
 C) Mide – Yutak  
 D) İnce bağırsak – Karaciğer

3. Enzim kullanılmadan besinlerin küçük parçalara ayrılmasına fiziksel sindirim denir.

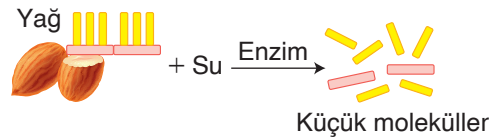
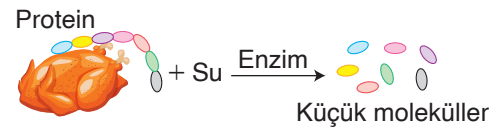
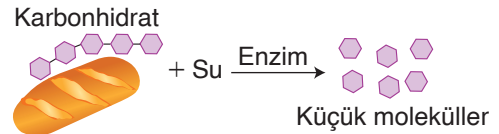
**Buna göre;**

- I. ağızda besinlerin dişler yardımıyla parçalanması,  
 II. midede proteinlerin mide öz suyu ile sindirilmesi,  
 III. ince bağırsakta yağların safra sıvısı ile sindirilmesi

**olaylarından hangilerinde fiziksel sindirim gerçekleşir?**

- A) Yalnız I.                      B) I ve III.  
 C) II ve III.                      D) I, II ve III.

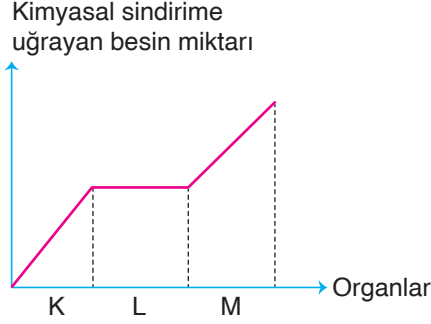
4. Besinlerin su ve enzimler yardımıyla küçük parçalara ayrılmasına kimyasal sindirim denir.



**Besin içeriklerinin sindirimiyle ilgili aşağıda verilen ifadelerden hangisi yanlıştır?**

- A) Karbonhidratların kimyasal sindirimi ağızda başlar, ince bağırsakta biter.  
 B) Mide ve ince bağırsakta proteinleri sindirecek enzimler bulunur.  
 C) Tüm besinlerin kimyasal sindirimi karaciğerden gelen pankreas öz suyu ile tamamlanır.  
 D) Yağların kimyasal sindirimi ince bağırsakta başlar, ince bağırsakta biter.

5. Bir besin maddesinin kimyasal sindirimini gerçekleştiren organlardaki sindirime uğrayan besin miktarıyla ilgili grafik aşağıda verilmiştir.



**Grafığe göre aşağıdaki ifadelerden hangisi söylenemez?**

- A) K organı ağızdır.  
 B) Besin maddesi karbonhidrattır.  
 C) M organı midedir.  
 D) Besin maddesinin sindiriminde safra sıvısının etkisi yoktur.

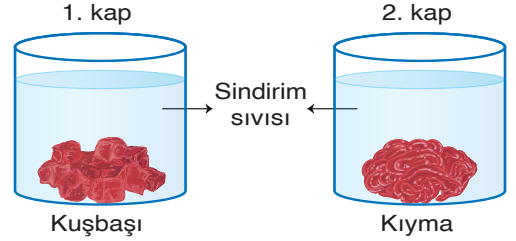
6. Sindirim sistemiyle ilgili sorular aşağıda verilmiştir.

Sorular
Besin emilimini gerçekleştirebilen fakat besinlerin sindiriminde görev almayan organ hangisidir?
Soluk borusunu kapatarak besinlerin buraya kaçmasını engelleyen yapı hangisidir?
Besinlerle kendisine kadar ulaşan bakterilerin üremesini, salgıladığı sıvıyla hangi organ önler?

**Buna göre aşağıdakilerden hangisi bu sorulardan birinin cevabı olamaz?**

- A) İnce bağırsak  
 B) Yutak  
 C) Kalın bağırsak  
 D) Mide

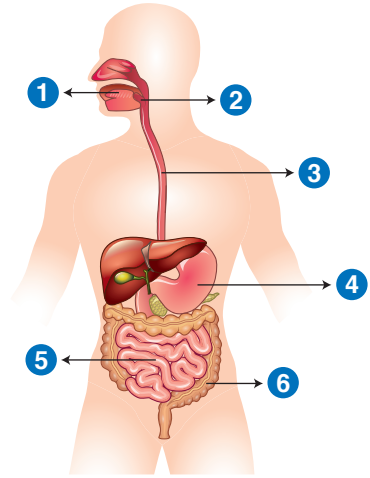
7. Bir öğrenci eşit kütlede kıyma ve kuşbaşıdan, aynı miktarda özdeş sindirim sıvıları bulunan kaplara şekildeki gibi bırakarak et parçalarının sindirimini gözlemliyor.



**Buna göre öğrenci bu deneyi aşağıdakilerden hangisini gözlemek için yapmıştır?**

- A) Besin çeşidinin sindirim süresine etkisi  
 B) Enzim miktarının sindirim hızına etkisi  
 C) Besin miktarının sindirim süresine etkisi  
 D) Fiziksel sindirimin kimyasal sindirim hızına etkisi

8. Sindirim sisteminde görevli yapı ve organlar aşağıdaki görselde numaralandırılarak verilmiştir.



**Buna göre bu organ ve yapılardan hangilerinde hem fiziksel hem de kimyasal sindirim gerçekleşebilir?**

- A) 1 ve 4.                      B) 1, 4 ve 5.  
 C) 2, 3 ve 6.                 D) 1, 4, 5 ve 6.

# **SOSYAL BİLGİLER**

**6.  
SINIF**



1. Evli ve üç çocuk babası olan Hakan Bey, yaşadığı hayatta birçok rolü üstlenmektedir. Çocuklarına karşı baba rolünü, hanımına karşı eş rolünü, anne ve babasına karşı evlat rolünü üstlenmiştir. Bu rollerde yerine getirmesi gereken sorumluluklar da vardır. Hakan Bey aynı zamanda çalıştığı iş yerinde müdür rolünü ve Türkiye Cumhuriyeti vatandaşı olduğu için de vatandaşlık rolüne uygun davranışlar gösterme sorumluluğu vardır.

**Aşağıdakilerden hangisi Hakan Bey'in sahip olduğu rollere göre yapması gereken bir davranış değildir?**

- A) Evde çocuklarının sorunlarıyla ilgilenmek zorundadır.  
B) Anne ve babası yaşlı olduğu için onların ihtiyaçlarını karşılamaya yardımcı olmalıdır.  
C) Çok farklı rollere sahip olduğu için iş yerine geç gittiği zaman insanlar ona karşı anlayışlı davranmalıdır.  
D) Türkiye Cumhuriyeti vatandaşı olduğu için kanunlara uymak zorundadır.

2. Bir yakınları vefat ettiği için anne ve babası başka şehre giden Elif küçük kardeşi Ali'yi erkenden uyandırdı. Onu okula hazırladı, beraber okula gittiler. Kardeşini okula bırakınca kendi okuluna gitti. Sınıf başkanı olduğu için sınıfın huzurunu sağladı. Okul çıkışında yaşlı dedesinin ilaçlarını eczaneden aldı.

**Verilen metne göre Elif;**

- I. çocuk,  
II. abla,  
III. öğrenci,  
IV. sınıf başkanı,  
V. torun

**rollerinden hangilerine sahiptir?**

- A) I - II - IV.                      B) II - III - IV - V.  
C) I - III - V.                      D) I - II - III - IV - V.

3. Şule Hanım, evinde iyi bir anne, okulda fedakâr bir öğretmen, gönüllü çalıştığı yardım derneğinde gayretli bir üyedir.

**Verilen bilgilere göre bu durumla ilgili aşağıdakilerden hangisi söylenemez?**

- A) Kişiler toplumsal hayatta birden fazla rol üstlenebilir.  
B) Toplumda kadınların üstlendiği roller daha önemlidir.  
C) Birden fazla rolü olan kişilerin sorumluluklarında artar.  
D) Kişilerin rolleri yaşına ve cinsiyetine göre değişebilir.

4. İnsanlar dünyaya geldiği andan itibaren kendini farklı bir grubun içinde bulur. İçinde bulunduğu gruba göre farklı roller üstlenir. Büyüdükçe de grupların sayısı artar. Bazı grupların içine girmek ya da girmemek insanların elinde değilken, bazı grup veya rollere sahip olmak kişinin kendi elindedir.

**Buna göre, aşağıdakilerden hangisi kişinin kendi seçeceği bir roldür?**

- A) Çocuk olmak  
B) Kız olmak  
C) Öğretmen olmak  
D) Torun olmak

5. Yasin, iki çocuklu bir ailenin en küçük çocuğudur. Okul voleybol takımının kaptanı olan Yasin aynı zamanda sınıf başkanıdır.

**Bu bilgilere göre Yasin ile ilgili aşağıdakilerden hangisi söylenemez?**

- A) Üstlendiği en önemli rol okul takımında kaptan olmasıdır.  
B) Birden fazla grubun üyesidir.  
C) Sahip olduğu gruplarda bazı sorumlulukları vardır.  
D) Evdeki rolü çocuk olmaktır.

6. Kültürün nesilden nesile aktarılması, yaşaması ve gelişmesi dil yoluyla olur. Böylece millet hayatındaki devamlılık dil sayesinde sağlanmış olur. Kültürün bazı unsurları varlığını ve devamlılığını dile borçludur. Toplumsal yaşamın vazgeçilmez olan değerler, örf ve âdetler, gelenek ve görenekler dil vasıtasıyla nesilden nesile aktarılır.

**Buna göre dil ile ilgili,**

- I. milletlerin hayatında önemli bir yere sahip olduğu,
- II. toplumun kültürel değerlerini nesilden nesile aktardığı,
- III. toplumsal yaşamın vazgeçilmez unsuru olduğu

**yargılarından hangilerine ulaşılabilir?**

- A) I ve II.                      B) I ve III.  
C) II ve III.                    D) I, II ve III.

7. Bireyin gelişiminde ve toplumsal birlikteliğin oluşmasında tarih, dil, din, örf, âdet, gelenek, görenek ve bayramlar gibi öğeler etkilidir. Bu öğelerin bir araya gelmesi kültürü oluşturur. Kültür bir toplumun devamı için önemli bir unsurdur. Kuşaktan kuşağa aktarılan ve bir toplumu diğer toplumlardan ayıran hayat tarzı o toplumun millî kültürüdür.

**Buna göre kültürle ilgili aşağıdakilerden hangisi söylenemez?**

- A) Toplumun bir arada bulunmasında etkili bir unsurdur.  
B) Kültür evrensel bir değerdir.  
C) Kuşaklar arasında bağın oluşmasını sağlar.  
D) Kültürü oluşturan unsurlar toplumda birlik ve beraberliği kuvvetlendirir.

8. Kültürel değerler bütün bir milletin eskiden beri oluşturduğu ortak değerlerdir. Bu değerler kaynaşmamızı, birlik ve beraberliğimizi sağlar.

**Buna göre aşağıdakilerden hangisi kültürel değerlerimiz arasında yer almaz?**

- A) Bayramlarda büyüklerin elini öpmek  
B) Askere gidecek gençlere ziyaret edip, harçlık vermek  
C) Düğünlerde dans etmek  
D) Sunnet olan çocuklara hediye vermek

9. I. Toplumun huzuru için farklı dinî inançlara izin verilmemelidir.  
II. Her kültür, ait olduğu millete millî bir kimlik kazandırır.  
III. Güzel dilimiz Türkçe; birbirimizi daha iyi anlamamızı sağlar.  
IV. Dinî bayramlar toplumsal birlikteliği güçlendirir.

**Kültürel değerlerle ilgili yukarıda verilerden hangisi doğru değildir?**

- A) I.                      B) II.                      C) III.                      D) IV.

10. Milletlerin tarihinde önemli günler ve olaylar vardır. Bu dönemler bayram olarak kutlanır. Bu zamanlar toplumsal birliktelik açısından önemlidir.

**Aşağıdakilerden hangisi bizim tarihimizde millî bayram olarak kutlanmaz?**

- A) 29 Ekim Cumhuriyet Bayramı  
B) 19 Mayıs Gençlik ve Spor Bayramı  
C) 21 Mart Nevruz Bayramı  
D) 23 Nisan Ulusal Egemenlik ve Çocuk Bayramı



1. Aşağıda Hz. Muhammed Dönemi'ndeki gelişmelerin anlatıldığı diyagram verilmiştir.

İslamiyet Mekke dışında yayılmaya başlamıştır.



Müslümanlar Mekkelilere karşı ilk mağlubiyetini almıştır.



Müslümanlar Mekkeliler tarafından tanınmıştır.

**Diyagramda verilen bu duruma**

- I. Hicret
- II. Bedir Savaşı
- III. Uhut Savaşı
- IV. Hudeybiye Antlaşması

**gelişmelerinden hangilerinin neden olduğu söylenebilir?**

- A) I ve II.                      B) I, II ve III.  
C) I, III ve IV.                D) II, III ve IV.

- 2.

Abbasiler Dönemi'ndeki Gelişmeler

→ Bilim, sanat ve mimaride önemli gelişmeler yaşanmıştır.

→ Talas Savaşı'nda Çinliler mağlup edilmiştir.

→ -- ? --

**Bu şemada boş bırakılan yere aşağıdakilerden hangisi yazılamaz?**

- A) Türklerin İslamiyet'e girmesi artmıştır.  
B) Darülhikmeler kurulmuştur.  
C) İslamiyet diğer milletler arasında yayılmaya başlamıştır.  
D) Kur'an-ı Kerim çoğaltılarak önemli merkezlere gönderilmeye başlamıştır.

3. Hz. Muhammed, Uhut Savaşı'ndan önce Uhut Dağındaki geçit için burada bulunan okçulara "Ne olursa olsun burayı asla terk etmeyin." demiştir. Ancak Müslümanlar zafer kazanmak üzereyken okçuların yerlerinden ayrılmaları, Müslümanların ciddi kayıplar vermelerine ve savaşı kaybetmelerine neden olmuştur.

**Bu durum Hz. Muhammed'in aşağıdaki özelliklerinden hangileriyle ilgili değildir?**

- A) Savaş stratejisini iyi bilme  
B) Cesaretli olma  
C) İleri görüşlü olma  
D) Planlı hareket etme

4. Abbasiler Anadolu ile olan sınır bölgelerine Türkleri yerleştirmişlerdir. Türkler bu bölgelerde önemli başarılar kazanmışlardır.

**Buna göre,**

- I. Türkler, Abbasilerin himayesine girdikten sonra kültürel özelliklerini kaybetmişlerdir.
- II. Abbasiler, Türklerin savaşçı özelliklerinden faydalanmışlardır.
- III. Abbasiler, yönetim kademesinde Türkleri kullanmaya başlamışlardır.

**Yorumlardan hangilerine ulaşılabilir?**

- A) Yalnız I.                      B) Yalnız II.  
C) I ve III.                      D) II ve III.

5. Hz. Ebu Bekir döneminde Kur'an-ı Kerim'in kitap hâline getirilmesi aşağıdakilerden hangisine doğrudan katkı sağlamıştır?

- A) İslamiyet'in daha geniş alanlara yayılmasına  
B) Kur'an-ı Kerim'in değişme tehlikesinden uzak tutulmasına  
C) Devlet otoritesinin güçlü olmasına  
D) Müslüman olanların sayısının artmasına

## 6. İlk Müslümanlardan;

**Hz. Hatice:** Hz. Muhammed'in eşi varlıklı bir kadındı.

**Hz. Ali:** Hz. Muhammed'in amcasının oğlu olup, müslüman olduğunda 10 yaşında bir çocuktü.

**Hz. Ebu Bekir:** Mekkenin saygın ve varlıklı kişilerinden biri idi.

**Hz. Zeyd:** Siyahi bir köle iken Hz. Muhammed tarafından satın alınarak özgürlüğüne kavuşturuldu.

**Verilen bilgilerde İslamiyet'i ilk kabul edenlerle ilgili aşağıdakilerden hangisi söylenebilir?**

- A) Farklı kesimlerde insanların İslamiyet'i kabul ettiği
- B) İslam dininin sadece Arap toplumuna hitap ettiği
- C) Zengin olanların İslamiyet'i kabul etmediği
- D) Köle olan insanlara ayrıcalık tanındığı

## 7.

- Hz. Muhammed Hicretten sonra Medine şehrinin yöneticisi olarak İslam Devleti'ni kurmuştur.
- Hz. Muhammed'in ölümünden sonra toplumun önde gelenlerinin seçimiyle halifelerin seçilmesine Dört Halife Dönemi'ne denir.
- Muaviye ile birlikte halifelik saltanata dönüşmüştür. Emeviler dönemi başlamıştır.
- Emevilere son vererek İslam Devleti'nin yönetimi Abbasilerin eline geçmiştir.

**Buna göre İslam Devleti ile ilgili,**

- I. İslam Devleti'nin temelini Hz. Muhammed atmıştır.
- II. İslam Devleti en parlak dönemini Dört Halife döneminde yaşamıştır.
- III. Dört Halife Dönemi Cumhuriyet yönetimi özelliği gösterir.

**yargılarından hangilerine ulaşılabilir?**

- A) I ve II.
- B) I ve III.
- C) II ve III.
- D) I, II ve III.

## 8.

- I. Kur'an-ı Kerim çoğalarak çeşitli merkezlere gönderildi.
- II. Hicri takvim kullanılmaya başladı.
- III. Üç büyük din için kutsal sayılan Kudüs alındı.
- IV. Yalancı peygamberlerle mücadele edildi.

**Verilenlerden hangileri Hz. Ömer döneminde yaşanmıştır?**

- A) I ve II.
- B) I ve IV.
- C) II ve III.
- D) III ve IV.

## 9.

Emeviler Mısır, Suriye ve Irak olmak üzere üç kola ayrılarak Hz. Ali Dönemi'nde iç karışıklıklar dolayısıyla durmuş olan fetihleri yeniden başlatmışlardır.

**Buna göre, Emeviler Dönemi'nde aşağıdakilerden hangisinin olması beklenir?**

- A) Ülke sınırlarının genişlemesi
- B) Eğitim seviyesinin yükselmesi
- C) Arapların ülke yönetiminde etkisinin artması
- D) Mimari alanda önemli gelişmelerin yaşanması

## 10.

Hz. Ebu Bekir Dönemi'nde Hz. Muhammed'in vefatıyla birlikte ortaya çıkan karışıklıklar bastırılmıştır. Bizansla yapılan Yermük Savaşı'nı Müslümanların kazanmasıyla Suriye'nin kapıları Müslümanlara açılmıştır.

**Bu durumun;**

- I. devlet otoritesinin güçlenmesi,
- II. ülke sınırlarının genişlemesi,
- III. Bizans'a karşı üstünlük kurulması

**gelişmelerinden hangilerine ortam hazırladığı savunulabilir?**

- A) I ve II.
- B) I ve III.
- C) II ve III.
- D) I, II ve III.

# **DİN KÜLTÜRÜ VE AHLAK BİLGİSİ**

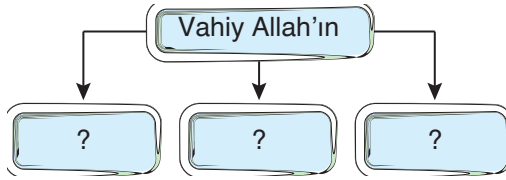
**6.  
SINIF**

1. 1. Allâhumme innâ nesteînüke ve nestağfi-ruke ve nestehdîk.  
2. - - - -  
3. Ve netevkelü aleyke ve nûsnî aleyk  
4. el-hayra küllehu neşküruke  
5. ve lâ nekfüruke ve nahleu ve netrukü men yefcüruk

**Okunuşu verilen Kunut duasında boş bırakılan yere aşağıdakilerden hangisi getirilmelidir?**

- A) Allahümme iyyake na'büdü ve leke nusallî  
B) Ve nû'minü bike ve netübü ileyk  
C) Ve nescüdü ve ileyke nes'â  
D) İnne azâbeke bi'lküfâri mülhik

2.



I. Emirleri II. Yasakları III. Öğütleri

**Şemadaki “?” nin yerlerine numaralanmış kavramlardan hangileri getirilebilir?**

- A) Yalnız I. B) Yalnız III.  
C) I ve II. D) I, II ve III.

3. - - - -, kendisine yeni bir kutsal kitap verilen peygamber demektir. - - - - ise kendisine kitap indirilmeyen, kendinden önceki peygamberlere verilen ilahî kitaptaki emir, yasak ve öğütleri insanlara açıklayıp öğreten kişilere denir.

**Yukarıdaki boşluklara sırası ile aşağıdaki kavramlardan hangileri getirilmelidir?**

- A) Peygamber – Elçi  
B) Resul – Nebi  
C) Nebi – Resul  
D) Resul – Elçi

4. **Aşağıdakilerden hangisi peygamberlerin insanlar arasında seçilmesinin nedenlerinden biri değildir?**

- A) Allah'ın emir ve yasaklarını uygulayarak daha iyi örnek olurlar.  
B) Olağanüstü güçlere sahip olduklarından insanları daha çabuk ikna edebilirler.  
C) Yaşadıkları toplumla aynı dili konuştuklarından daha iyi iletişim kurarlar.  
D) Yaşadıkları toplumu her bakımdan çok iyi tanıdıkları için insanların sorunlarına doğru çözüm getirirler.

5. Peygamberler her hareketleriyle Allah'ın insanlar için seçtiği kulları ve elçileridir. İnsanların kendilerine bakarak davranışlarına çekidüzen verdikleri birer örnektirler. Bu sebeple fakirken, sıkıntıdayken bile Allah'a şükrederler. Haset etmek, içi dışına uymamak gibi kötü huylardan hiçbiri onlarda bulunmaz.

**Bu parçada peygamberlerin hangi özelliklerine yer verilmemiştir?**

- A) Peygamberlerin örnek kişiler olduklarına  
B) Allah'a her durumda şükrettiklerine  
C) İçi-dışı bir olduklarına  
D) İnsanüstü yönlerinin olduğuna

6.

“Size Rabbimin mesajlarını duyuruyorum ve ben sizin için güvenilir bir öğüt vericiyim.”

(A'râf suresi, 68. ayet)

**Bu ayette peygamberlerin hangi özelliklerinden söz edilmektedir?**

- A) İsmet - Sıdk  
B) Tebliğ - Fetânet  
C) Emanet - Fetânet  
D) Tebliğ - Emanet

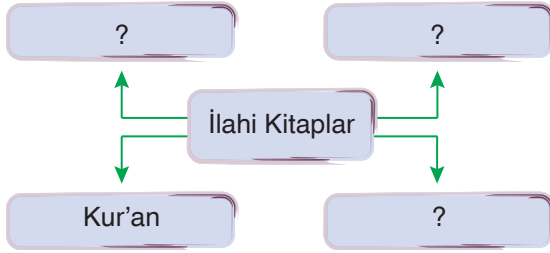
## 7. Peygamberlerle ilgili;

- I. İnsanların nasıl ibadet edeceğini öğretmişlerdir.
- II. İnsanlara güzel ahlak konusunda örnek olmuşlardır.
- III. İnsanlara Allah'tan başkasına kulluk edilemeyeceğini bildirmişlerdir.

İfadelerinden hangileri doğrudur?

- A) Yalnız I.                      B) Yalnız III.  
C) I ve II.                        D) I, II ve III.

## 8.



Kavram haritasında “?” nin olduğu yere aşağıdakilerden hangisi getirilemez?

- A) İncil                              B) Zebur  
C) Veda                              D) Tevrat

## 9. İnsanlar vahiy yoluyla;

- I. yaratılış amaçlarını,
- II. ölümden sonraki hayatlarını,
- III. hangi davranışların doğru hangilerinin yanlış olduğunu

hangilerini öğrenirler?

- A) Yalnız I.                        B) Yalnız III.  
C) I ve II.                         D) I, II ve III.

## 10. Yüce Allah kitap olarak dört kutsal kitap göndermiştir.

- I. Kur'an-ı Kerim
- II. İncil
- III. Tevrat
- IV. Zebur

Bu kitapların iniş sırası aşağıdakilerden hangisinde doğru verilmiştir?

- A) I – II – III – IV  
B) II – III – IV – I  
C) III – IV – II – I  
D) IV – II – III – I

## 11.

- I. İncil Hz. İsa'dan yaklaşık yüzyıl sonra yazılmıştır.
- II. İncil eski ahit olarak da bilinir.
- III. Bugün Hristiyanların çoğunun kabul ettiği İnciller dört tanedir.

Dört büyük kitaptan biri olan İncil ile ilgili verilen bilgilerden hangileri doğrudur?

- A) Yalnız I.                        B) Yalnız III.  
C) I ve III.                        D) I, II ve III.

## 12.

- Müslümanlara indirilen kitaptır.
- Parça parça olarak indirilmiştir.
- 23 yılda tamamlanmıştır.

Özelliklerinden bazıları verilen ilahî kitap aşağıdakilerden hangisidir?

- A) Kur'an-ı Kerim  
B) İncil  
C) Tevrat  
D) Zebur

1. I. Dört kez tekbir alınır.  
II. Fatiha ve zammı sure okunur.  
III. Rükû yapılır.  
IV. Secde yapılır.

**Bayram namazının ikinci rekâtının kılınış sıralaması aşağıdakilerden hangisidir?**

- A) II – I – III – IV      B) III – IV – I – II  
C) III – I – II – IV      D) I – VI – II – III

2. • Oturmak, istirahat etmek anlamlarına gelir.  
• Ramazan ayında kılınan bir namazdır.  
• Yatsı namazının son sünneti ile vitir namazı arasında kılınır.

**Özellikleri verilen namaz aşağıdakilerden hangisidir?**

- A) Cuma namazı      B) Bayram namazı  
C) Cenaze namazı      D) Teravîh namazı

3. **Aşağıdakilerden hangisi farz olan namazlardan biri değildir?**

- A) Ramazan bayramı namazı  
B) Cuma namazı  
C) Cenaze namazı  
D) İkinci namazı

4. Namaz kılacak kişi Allah'ın huzuruna çıkacağından temiz olması gerekir. Bu temizlik hem maddi hem de manevî temizliği kapsar.

**Buna göre;**

- I. abdest almak,  
II. namaz kılacak yeri temizlemek,  
III. namaz kılınan elbiseyi temizlemek

**hangileri namazın geçerli olması için gerekli olan temizliklerdir?**

- A) Yalnız I.      B) Yalnız III.  
C) II ve III.      D) I, II ve III.

5. Müslümanların bir araya gelerek birlikte namaz kılmalarının sevabı daha çoktur. Bu nedenle bir araya gelen Müslümanlara namaz kıldırmak için bir din görevlisi görevlendirilir.

**Cemaate namaz kıldırmak için görevlendirilen kişi aşağıdakilerden hangisidir?**

- A) Müezzin  
B) İmam  
C) Mürit  
D) Müftü

6. • Toplanılan gün anlamına gelir.  
• Cem ve cemaatle aynı kelimenin kökünden türetilmiştir.  
• Haftanın bu günü Müslümanlar için önemlidir.

**Özellikleri verilen gün aşağıdakilerden hangisidir?**

- A) Arefe günü  
B) Bayramın birinci günü  
C) Cuma günü  
D) Aşure günü

7. Namaz hükümlerine göre üç gruba ayrılır. Bunlar farz, vacip ve nafîle namazlardır. Yüce Allah'ın kılınmasını kesin olarak emrettiği namazlara "farz namazlar" denir. Ergenlik çağına gelmiş ve akıl sağlığı yerinde olan her Müslümanın günün belirli vakitlerinde namaz kılması emredilmiştir. Bu namazların, unutmaya veya uykuda kalma gibi sebeplerle vaktinde kılınamaması durumunda ilk fırsatta kazası yapılmalıdır.

**Buna göre aşağıdaki namazlardan hangisi hüküm bakımından diğerlerinden farklıdır?**

- A) Sabah  
B) Cuma  
C) Teravîh  
D) Cenaze

8. Namaz kılmaya başlamadan önce ve namaz kılarken yerine getirmemiz gereken bazı farzlar vardır. Bu farzlardan biri yerine getirilmezse namaz geçersiz olur. Bunların altısı namaza hazırlanırken, altısı da namazı kılarken olmak üzere toplam on iki tanedir. Namaza hazırlanırken yerine getirilmesi gereken farzlara “şart”, namaz kılınırken yerine getirilmesi gereken farzlara ise “rükün” denir.

**Buna göre aşağıdakilerden hangisi namazın rükünlerinden biridir?**

- A) Ruku  
B) İstikbal-i Kible  
C) Setriavret  
D) Niyet

9. • Abdestle veya gerekirse gusülle namaza hazırlanmak  
• Namaz kılınan yeri ve elbiseyi temiz tutmak  
• Her namazı kendi vakti içerisinde kılmak

**Verilen açıklamalar ile aşağıdaki kavramlar eşleştirildiğinde hangisi dışarıda kalır?**

- A) Hadesten Taharet  
B) Necâsetten Taharet  
C) İstikbal-i Kible  
D) Vakit

10. Namaz, tek başına kılınabileceği gibi topluluk halinde de kılınabilir. Yüce Allah birlik ve beraberliğin sağlanması için namazların cemaatle kılınmasını önemsemiş hatta bazı namazları cemaatle birlikte kılmayı zorunlu tutmuştur.

**Buna göre aşağıdaki namazlardan hangisi cemaatle birlikte kılınması zorunlu namazlardandır?**

- A) Sabah  
B) Cuma  
C) Yatsı  
D) Akşam

11. Hz. Zekeriya (a.s.), İsrâiloğullarına Yüce Allah'ın varlığını ve birliğini tebliğ etmek, emir ve yasaklarını bildirmek için gönderilen bir peygamberdir. Soyu Hz. Davud'a (a.s.), oradan da Hz. İbrahim'e (a.s.) dayanmaktadır. Peygamber olmadan önce Beytül-Makdis'e hizmet etmek için çalışmıştır. Kendisine peygamberlik görevi geldikten sonra da Kudüs ve çevresindeki insanlara Yüce Allah'ın emirlerini bildirmiş; inkârın ve zulmün arttığı bir toplumda tevhit mücadelesi vermiştir. Geçimini sağlamak için ise marangozluk yapmıştır. Hz. Zekeriya'nın (a.s.) hiç çocuğu olmamıştır. Bu yüzden ihtiyarlık çağına geldiğinde ileride kavminin Allah'ın (c.c.) yolundan sapmasından korkmuş ve Yüce Allah'tan kavmini saptırmaktan koruyacak bir oğul istemiştir. Yüce Allah'a şöyle dua etmiş: “Gerçek şu ki ben, benden sonra gelecek akrabalarımın isyankâr olmalarından korkuyorum. Karım ise kısırdır. Bana kendi tarafından; bana ve Yakup hanedanına vâris olacak bir çocuk bağışla ve onu hoşnutluğuna ulaştırmış bir kimse kıl!” Yüce Allah, Hz. Zekeriya'nın (a.s.) duasına şöyle cevap vermiş: “Ey Zekeriya! Haberin olsun ki biz sana Yahya adlı bir oğul müjdeliyoruz. Daha önce onun adını kimseye vermedik.”

**Bu metinden Hz. Zekeriya ile ilgili aşağıdakilerden hangisine ulaşılamaz?**

- A) Allah, duasını kabul ederek ona birden çok çocuk verdiğine  
B) İnsanları Allah'ın varlığı ve birliğine inanmaya çağırdığına  
C) Marangozluk yaparak geçimini sağladığına  
D) Allah'tan, kavminin sapkınlığa düşmesini önleyecek bir çocuk istediğine



# İNGİLİZCE

6.  
SINIF

1-8. sorularda boş bırakılan yere uygun gelen kelime ya da ifadeyi işaretleyiniz.

1. **Helena** : ----?

**Daniel** : I go to my step dance class.

- A) What do you do at weekends
- B) When do you do your homework
- C) Do you always help your dad
- D) What time do you wake up

2. **Lila** : ----?

**Kaan** : It's the 15<sup>th</sup> of January.

- A) What do you do after school
- B) What time is it
- C) What is the date today
- D) When do you go take a nap

3. **Raisin** : ----?

**Kelis** : Before I have breakfast.

- A) When do you have breakfast
- B) What do you do at school
- C) What time do you have lunch
- D) When do you write your diary


4.



**Oliver** ---- after dinner.

- A) plays volleyball
- B) goes to school
- C) runs errands
- D) watches cartoon

5.



**Paul** ----.

- A) takes a dance course
- B) takes care of his dog
- C) has breakfast
- D) attends drama club

6.



Monica - - - - after dinner.

- A) does her homework
- B) has lunch
- C) helps her mom
- D) watches her favourite cartoon

7.



Samuel wakes up at - - - -.

- A) half past seven
- B) half past eight
- C) quarter to seven
- D) quarter past seven

8. - - - - and she does her homework.

- A) Suzie helps her mother until half past seven
- B) Tony is a student in the sixth grade
- C) Lila and Marie go back home at five
- D) My brother doesn't write a diary

9 ve 10. soruları aşağıdaki metne göre cevaplayınız.

Mark is eleven years old. He studies in the fifth grade. He wakes up at seven o'clock on weekdays and he has breakfast. He goes to school at eight. He comes home and does his homework after dinner. He watches his favourite cartoon. After that, he feeds his dog.

9. Mark - - - -.

- A) wakes up at 8 o'clock
- B) has dinner before he does his homework
- C) doesn't have breakfast
- D) is 12 years old

10. Which one is TRUE?

- A) Mark studies in the seventh grade.
- B) Mark has lunch before he goes to school.
- C) Mark has two dogs at home.
- D) watches his favourite cartoon before he feeds his dog

1-8. sorularda boş bırakılan yere uygun gelen kelime ya da ifadeyi işaretleyiniz.

1. **Barış** : Do you like chips?  
**Bruno** : No. - - - -. I eat vegetables and fruits.
- A) I like them  
 B) It is healthy  
 C) They are not nutritious  
 D) I eat them at lunch
2. **Francis** : Can I have croissant, please?  
**Kerim** : - - - -. What about bagel?  
**Francis** : Sure.
- A) Sorry, it's all gone  
 B) We have croissant  
 C) I don't like it  
 D) Good morning
3. **Tricia** : What can we have for dinner?  
**Mehmet** : - - - -.  
**Tricia** : It doesn't include vegetables. I also want vegetable soup.
- A) We can have salad and mushroom  
 B) You have different lunch habit  
 C) I like cereal for breakfast  
 D) We can eat baked beans and sausage

4.



**Esmâ eats - - - - for lunch.**

- A) muffin  
 B) soup  
 C) rice  
 D) cereal

5.



**Brad is a - - - -.**

- A) doctor  
 B) chef  
 C) teacher  
 D) student

6.



I sometimes eat - - - - for breakfast.

- A) muffin
- B) bread
- C) croissant
- D) bagel

7.



Pierre eats - - - - at break times.

- A) lemon
- B) mushroom
- C) muffins
- D) cucumber

8. Breakfast is healthy and - - - -.

- A) it also makes us strong
- B) I drink tea for dinner
- C) I don't have cereal for lunch
- D) it is not nutritious

9 ve 10. soruları aşağıdaki metne göre cevaplayınız.

My name is Mick. I'm British. My friend, Jimmy, is Italian and he has a different breakfast habit. I eat jam, olives and sausage for breakfast but he eats mushroom and pizza. I have coffee and have toast for lunch but Jimmy has fruit juice and pancake. We sometimes have lunch together and he doesn't like my eating habit. He thinks my eating habit is not healthy because it includes sausage and coffee.

9. Mick and Jimmy - - - -.

- A) are Italian
- B) drink lemonade for lunch
- C) sometimes eat together
- D) cook in the kitchen

10. Which one is TRUE?

- A) Jimmy eats pancake for dinner.
- B) Mick's eating habit is different from Jimmy.
- C) Jimmy thinks sausage is nutritious.
- D) Mick has butter and honey for breakfast.