

# TÜRKÇE

7.  
SINIF

1. I. Her sabah babamla birlikte bir saat koşarım.  
II. Çocukluğumuzu İstanbul'un köhne bir semtinde geçirdik.  
III. Dertten, kederden genç yaşta saçlarım ağardı.

**Numaralanmış cümlelerde geçen altı çizili fiillerin anlam özelliği aşağıdakilerin hangisinde doğru verilmiştir?**

	I	II	III
A)	Oluş	İş	Durum
B)	Durum	Oluş	İş
C)	Oluş	Durum	İş
D)	Durum	İş	Oluş

2. (I) Sanatın zamanla olan ilişkisi, bireyin zamanla olan ilişkisinden çok çok farklıdır. (II) İnsan, zamanın peşinden koşturur ancak sanatın zamanı yakalamak gibi bir kaygısı olmamıştır hiçbir zaman. (III) Sanat, zamanı isterse yıllar öncesine ya da yıllar sonrasına götürebilir. (IV) Bu yüzden sanatın bohçası zaman kavramı bakımından daha dolu görülmektedir.

**Bu metinde numaralanmış cümlelerin hangisinde kılış fiili vardır?**

- A) I.      B) II.      C) III.      D) IV.

3. Yazar, insan psikolojisinin keşfedilmeyen yönlerini anlamaya çalışmıştır.

**Bu cümledeki fiilin anlam özelliğiyle özdeş bir fiil aşağıdakilerin hangisinde vardır?**

- A) Bir resmin görünen anlamının yanı sıra görünmeyen ikinci bir anlamı daha bulunur.  
B) Güler yüz, her şeyden önce bireye güven verir.  
C) İyimserlik, insana her şeyden önce başarıyı getirir.  
D) İnsanlar ellerindeki imkânları birbirleriyle paylaşmalıdır.

4. **Aşağıdaki cümlelerin hangisinde iş ve durum fiilleri bir arada kullanılmıştır?**

- A) Yaşanan tüm olaylar onu üzmüştü, buralardan birazcık uzaklaşmak istiyordu.  
B) Türkçe olan hiçbir şarkıyı dinlemiyor, yabancı müzikleri seviyordu.  
C) Otobüsler garajdan birbiri ardınca büyük bir gürültüyle ayrıldılar.  
D) Bir o yana bir bu yana koşuyor, odasını topluyordu.

5. I. Evin çatısı birkaç yerden yine damlıyordu.  
II. Yazar, bu romanında Millî Mücadele Dönemi'ni anlatıyordu.  
III. Hastalıktan eli, yüzü morarmıştı kadıncağzın.  
IV. Elini hızlıca sallayarak masadaki mumu söndürdü.

**Numaralanmış cümlelerin hangilerinde altı çizili fiillerin anlam özelliği özdeştir?**

- A) I ve II.      B) I ve III.  
C) II ve III.      D) II ve IV.

6. **Aşağıdakilerin hangisinde iş (kılış) bildiren eylemler bir arada kullanılmıştır?**

- A) duymak – inanmak – işildamak  
B) büyümek – bilmek – indirmek  
C) hissetmek – durdurmak – göndermek  
D) mırıldanmak – uzanmak – kurulmak

7. Aşağıdaki cümlelerin hangisinde oluş bildiren bir eylem vardır?

- A) Seni, anlaştığımız yerde saatlerce bekledim.  
B) Geleceğimizi duyunca erkenden hazırlıklara başlamış.  
C) Tüm gücüyle adamın suratına vurdu.  
D) Bahçemizdeki ağaçlar, susuzluktan kurumuş.

8. (I) Her insanın içinde iyilik de kötülük de bulunur. (II) İş, eyleme döküldüğünde kimisinde iyilik baskın çıkar, kimisinde kötülük. (III) Bir bataklığı andıran kötülüğü iyilikten üstün tutamayız. (IV) Çünkü insanları hayatta mutlu edebilecek tek şey iyiliktir.

**Bu metindeki numaralanmış cümlelerin hangisinde iş (kılış) bildiren bir eyleme yer verilmiştir?**

- A) I.      B) II.      C) III.      D) IV.

9. Karanlıkta yürürken bir anda karşısına çıkan köpeklerden çok korktu.

**Aşağıdakilerin hangisinde bu cümledekiyle anlam özelliği yönüyle özdeş bir fiil kullanılmıştır?**

- A) Derste anlatılan her şeyi can kulağıyla dinliyordu.  
B) Onun çok ağır bir hastalığa yakalandığını hepimiz duyduk.  
C) İnsan kendi aklını başkasınınkinden üstün görür.  
D) Öğretmenlik yapmak için yavru vatana gitmişti.

10. Fiiller anlam özelliklerine göre iş, oluş, durum fiilleri olmak üzere üç gruba ayrılır. İş bildiren fiiller, nesne alabilen fiillerdir.

**Bu açıklamaya göre, aşağıdaki cümlelerin hangisinde iş bildiren bir fiil vardır?**

- A) Çocuklara geleceğin bilim insanı olarak bakıyoruz.  
B) İnsan, bir hata yapmışsa bunu geç olmadan düzeltilmelidir.  
C) Günümüzde insanların emeğine pek saygı duyulmuyor.  
D) Dilin ne denli önemli olduğunun farkına varamayan toplumlar ilerleyemez.

11. Melekler dolanır bu kuytu yerde

I

Ey gün kadar güzel çocuğum, uyu

II

Bir gün hasretiyle için titrer de

III

Anarsın, bu derin, tatlı uykuyu

IV

**Bu dizelerde numaralanmış fiillerden hangisi anlam özelliği bakımından diğerlerinden farklıdır?**

- A) I.      B) II.      C) III.      D) IV.

12. Aşağıdakilerin hangisinde anlam özelliği bakımından farklı bir fiil kullanılmıştır?

- A) Dediklerinizin hiçbiri arka sıralardan duyulmuyor.  
B) Dün onu ziyaret ettiğimizde gayet iyi görünüyordu.  
C) Hiç sendelemeden aheste aheste çıkıyorum basamakları.  
D) Kapalı alanda sigara içmek artık yasaklandı.

1. Konuşmanın ne denli önemli olduğunu bilen biridir. Bu yüzden o konuşmaya başladığı zaman herkes onun ağızına bakar.

**Bu metindeki altı çizili sözle anlatılmak istenen aşağıdakilerden hangisidir?**

- A) Ön hazırlıkla konuşmalarına başlamak  
B) Alanında yetkin bir kişi olmak  
C) Anlatımında sade bir dil kullanmak  
D) Kendini keyifle dinletebilmek
2. Günümüz edebiyatını takip edenler az çok farkındadır: Usta yazarların eserlerine günümüzde pek rastlanmıyor. Gerçi usta yazarlar da ununu elemiş, eleğini asmış havasındalar.
- Bu metindeki altı çizili sözle anlatılmak istenen aşağıdakilerden hangisidir?**
- A) Bir girişimde bulunacak gücü kalmamak  
B) Pek çok önemli yapıtı ortaya çıkarmak  
C) İşini bitirip artık hiçbir iş yapmamak  
D) Görev ve sorumluluklarını tam olarak yerine getirememek

3. Deyimler sözlüğüne baktığımızda "can" sözüyle ilgili birçok deyim karşımıza çıkmaktadır. Bunlardan bazıları şöyledir: Birinin kötü durumlarda kurtarıcısı olmak anlamında can simidi olmak, bir

şeyi yaparken çok zorluk çekmek anlamında canı burnuna gelmek, beklenilmeyen bir durumla

karşılaşıldığındaki memnuniyetsizliği anlatmak için canına minnet olmak, dayanamaz

duruma gelindiğini, sabır kalmadığını göstermek için canına tak demek deyimini kullanılmaktadır.

**Bu metinde numaralanmış deyimlerden hangisi yanlış açıklanmıştır?**

- A) I. B) II. C) III. D) IV.

4. Yazarın romanlarına baktığımızda hayatın birebir aynası olduğunu görürüz. Toplumsal olaylara hiçbir zaman kayıtsız kalmamıştır. Yaşanan

toplumsal aksaklıkları anlatırken mizaha sırtını dayamıştır. Toplumun karamsarlıktan kurtuluş iksirlerini her yazısında kaleme almıştır.

**Bu metindeki altı çizili sözlerde yazarla ilgili olarak aşağıdakilerden hangisi söylenemez?**

- A) I. sözde, yaşananları tüm gerçekliğiyle aktardığına değinilmiştir.  
B) II. cümlede, hiçbir zaman toplumsal olayların dışında kalmadığı söylenmiştir.  
C) III. sözde, güldürü unsurlarını eserlerinde kullandığı vurgulanmıştır.  
D) IV. sözde, sadece toplumsal sorunları işlediği anlatılmak istenmiştir.

5. İyi bir yazarın görevi sıradan olayları anlamak ve anlatmak değildir. Sadece güncel düşünceleri ve olayları ele almak yerine biraz da geçmişe dönmek gerekir. İyi bir yazar geçmişle bugünün el sıkıştığı yazılara imza atmalıdır.

**Bu metindeki altı çizili sözle anlatılmak istenen aşağıdakilerin hangisidir?**

- A) Geçmişe bağlı olduğu  
B) Geçmişle bugünün iç içe olduğu  
C) Geçmişle bugünün barıştığı  
D) Bugünün geçmişten feyz aldığı

6. Matematik, fizik, tarih, coğrafya, Latince, İspanyolca derken tam bir kitap kurdu olup çıktım.

**Bu cümlede altı çizili sözle anlatılmak istenen aşağıdakilerden hangisidir?**

- A) Kitaplarla iç içe olmak  
B) Yavaş yavaş, özümseyerek okumak  
C) Ara vermeden okuyup bitirmek  
D) Okuduğundan zevk almak

7. Sanatçının ellinci yılı adına düzenlenen anma etkinliğinde pek çok sanatçı bir araya geldi. Pek çok renk, aynı anda buluştu. Bu renk cümbüşü içinden kimi çıkarırsanız çıkarın o renklerin hiçbir zaman kaybolmayacağını göreceksiniz.

**Bu metindeki altı çizili söz öbeği ile anlatılmak istenen aşağıdakilerin hangisinde verilmiştir?**

- A) Başarılı sanatçıların okuyucular tarafından daha çabuk fark edildiğine  
B) Farklı alandaki sanatçıların bir araya geldiğinde bir bütün oluşturabileceğine  
C) Özgün nitelikte sanatçıların bir araya gelmesinin zor olduğuna  
D) Sanat dünyasının yeniliklere açık olmadığına

8. I. Beni korkutarak gözdağı vermeye çalışıyordu.  
II. Kasaba mahşer yeri gibiydi; kadını, çocuğu, yaşlısı...  
III. Bizim için elinden geleni yapmaya dünden hazır.  
IV. Böyle kötü insanlarla iş yapılmaz, ateşle oynuyorsun.

**Numaralanmış cümlelerde geçen deyimler aşağıdaki anlamlardan hangisini içermez?**

- A) Tehlikeli  
B) Kalabalık  
C) Meraklı  
D) Korkutmak

9. O kadar çok yakındır ki doğa ve insan birbirine göbekleri beraber kesilmiş gibidir. Doğayla insanın ilişkide olmadığı bir insanlık tarihi düşünülemez. İnsanın çıkış noktası tabiattır en nihayetinde. İnsan ruhunun gölgede kalan yanlarını doğa ortaya çıkarmıştır.

**Bu metindeki altı çizili sözlerin anlamları aşağıdakilerden hangisinde verilmiştir?**

- A) Her şeyi aynı olan – insanlığın doğuşu – önemsenmeyen şeyler  
B) Kan bağı olanlar – dünyanın varoluşu – kıskanılan, beğenilen  
C) Bir arada yaşayan – insanın patlama noktası – detaylı anlatılmayan  
D) Her zaman birlikte olan – bir işe başlanan yer – ön plana çıkamamak

10. I. Çatal kazık, yere batmaz.  
II. İğneyle kuyu kazılmaz.  
III. Kaynayan kazan, kapak tutmaz.  
IV. Dostun attığı taş, baş yarmaz.

**Aşağıdaki cümlelerin hangisinde numaralanmış atasözlerinden herhangi birinin anlamına yer verilmemiştir?**

- A) Açık açık yapılan tüm hileler bir gün ortaya çıkacaktır.  
B) En yakındakiler her zaman senin iyi olman için çabalar.  
C) Elindeki bu az malzemeye, sabredip başarmaya çalışıyor.  
D) Herkes bildiğini söylüyor, bu iş böyle yürümez.

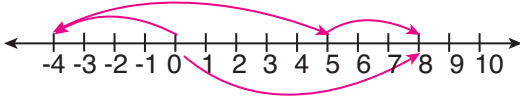
# MATEMATİK

7.  
SINIF

1. Aşağıdaki işlemlerin hangisinde toplama işleminde etkisiz eleman özelliği kullanılmıştır?

- A)  $(-15) + (+15) = 0$
- B)  $(-23) - (+23) = 0$
- C)  $(-29) + 0 = -29$
- D)  $(-13) + (-31) = (-31) + (-13)$

2.



Sayı doğrusunda gösterilen işlem aşağıdakilerden hangisidir?

- A)  $(-4) - (+9) + (+3)$
- B)  $(-4) - (-9) + (-3)$
- C)  $(-4) + (+9) + (+3)$
- D)  $(-4) + (-9) + (-3)$

3. 4. kattan asansöre binen Zehra Hanım önce 5 kat aşağı inmiş, sonra 7 kat yukarı çıkmıştır.

Zehra Hanım'ın son durumda kaçınca katta asansörden indiğini gösteren işlem aşağıdakilerden hangisidir?

- A)  $(-4) - (+5) + (+7)$
- B)  $(+4) + (-5) + (+7)$
- C)  $(+4) + (-5) + (-7)$
- D)  $(-4) - (+5) - (-7)$

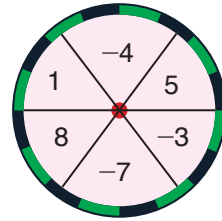
4. Aşağıda verilen işlemlerden hangisinin sonucu toplama işleminin etkisiz elemanına eşit değildir?

- A)  $(+15) + (-15)$
- B)  $(-12) - (-12)$
- C)  $(+18) - (+18)$
- D)  $(-19) - (+19)$

5. Aşağıdakilerden hangisi yanlıştır?

- A) Bir toplama işleminde toplananlar yer değiştirdiğinde toplam değişmez.
- B) Bir sayının ters işaretlisi o sayının toplama işlemine göre tersidir.
- C) Toplama işleminin etkisiz elemanı 1(bir)'dir.
- D) Tam sayılarda toplama işleminin birleşme özelliği vardır.

6.



Şekilde verilen özel yapım hedef tahtasına atılan isabetli atışların geldiği bölmelerdeki sayıların toplamı hesaplanmaktadır.

Buna göre hedef tahtasına yapılan isabetli üç atışta elde edilecek sayı aşağıdakilerden hangisi olamaz?

- A) -12
- B) -6
- C) 10
- D) 6

7. Ali Rıza Bey'in cebinde 600 TL'si vardır. Bankaya 750 TL kredi kartı borcu ve Elif Hanım'dan 1400 TL alacağı vardır.

**Ali Rıza Bey alacağını alıp, borcunu ödedikten sonra cebinde kaç lirası olur?**

- A) 950      B) 1050      C) 1150      D) 1250

8. ● - (-10) işleminin sonucu negatif bir tam sayı olduğuna göre ● yerine yazılabilecek en büyük tam sayı aşağıdakilerden hangisidir?

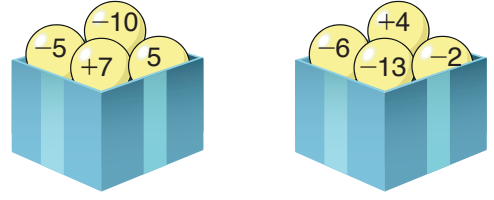
- A) -9      B) -10      C) -11      D) 12

9.  $(-2018) + (-204) + (+2017)$

**İşleminin sonucunun kolay yoldan hesaplanması için aşağıdaki işlemlerden hangisi kullanılmalıdır?**

- A)  $[(-2018) + (-204)] + (+2017) = (-2222) + 2017 = (-205)$   
 B)  $(-2018) + [(-204) + (+2017)] = (-2018) + 1813 = (-205)$   
 C)  $[-204 + (-2018)] + (2017) = (-2222) + 2017 = (-205)$   
 D)  $[(-2018) + (2017)] + (-204) = (-1) + (-204) = (-205)$

- 10.



**Verilen kutulardaki toplardan hangi ikisi yer değiştirirse her bir kutudaki topların üzerinde yazılı sayıların toplamı birbirine eşit olur?**

- A) 7 ile 4      B) 5 ile -2  
 C) -10 ile -13      D) -5 ile -6

11. Tablo: İllerin Sıcaklık Değerleri

İller \ Sıcaklıklar	Gündüz (°C)	Gece (°C)
Ankara	-3	-10
Antalya	4	2
Aksaray	-1	-5
Aydın	3	2

**Tabloda verilen illerin gündüz ve gece sıcaklık farkları hesaplandığında aşağıdaki değerlerden hangisine ulaşamaz?**

- A) 7      B) 4      C) 2      D) 0

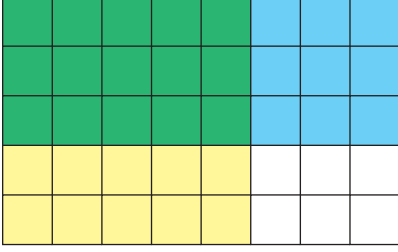
12. Erdem, bir binanın 16. katından 7 kat aşağı iniyor. Sonra 9 kat yukarı çıkıyor ve binanın en üst katına ulaşıyor.

**Buna göre bina kaç katlıdır?**

- A) 17      B) 18      C) 19      D) 20



1. Aşağıda bir çarpma işleminin modellenmesi gösterilmiştir.



Modellenen bu işlem aşağıdakilerden hangisidir?

- A)  $\frac{3}{5} \cdot \frac{4}{8}$       B)  $\frac{4}{5} \cdot \frac{3}{5}$   
 C)  $\frac{3}{5} \cdot \frac{5}{8}$       D)  $\frac{4}{8} \cdot \frac{3}{4}$
2.  $-\frac{5}{13}$  sayısı aşağıdaki sayılardan hangisi ile çarpılırsa, çarpma işleminin etkisiz elemanı elde edilir?

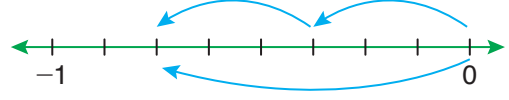
- A)  $\frac{5}{13}$       B)  $-\frac{13}{5}$   
 C)  $\frac{13}{5}$       D)  $-\frac{5}{13}$

3.  $(-\frac{21}{9}) \cdot \star = 0$

Yukarıda verilen eşitliğe göre,  $\star$  yerine aşağıdakilerden hangisi yazılmalıdır?

- A)  $\frac{7}{3}$       B)  $\frac{1}{5}$       C)  $-\frac{3}{7}$       D) 0

4. Aşağıda gösterilen sayı doğrusu eş parçalara ayrılmıştır.



Sayı doğrusunda gösterilen işlem aşağıdakilerden hangisidir?

- A)  $(-2) \cdot \frac{3}{8}$       B)  $2 \cdot (-\frac{3}{8})$   
 C)  $6 \cdot (-\frac{1}{8})$       D)  $2 \cdot \frac{1}{3}$

5.  $(1\frac{1}{5}) : (-5\frac{1}{3})$

işleminin sonucunun toplama işlemine göre tersi aşağıdakilerden hangisidir?

- A)  $-\frac{9}{40}$       B)  $-\frac{9}{8}$       C)  $\frac{9}{40}$       D)  $\frac{9}{8}$

6.  $A = 5 - \frac{1}{2}$  ve  $B = 2 - \frac{1}{2}$  olduğuna göre,  $\frac{A}{B}$

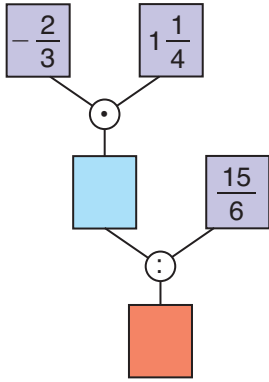
işleminin sonucu aşağıdakilerden hangisidir?

- A) 3      B)  $\frac{9}{2}$       C)  $\frac{15}{2}$       D) 6

7.  $-1$  sayısı aşağıdaki hangi rasyonel sayıya bölünürse kendisinden küçük bir sayı elde edilir?

A)  $\frac{3}{5}$  B)  $\frac{7}{6}$  C)  $-\frac{5}{3}$  D)  $-\frac{1}{2}$

8.



Yukarıdaki şemada bulunan mavi kutudaki sayının çarpma işlemine göre tersi ile kırmızı kutudaki sayının toplamı aşağıdakilerden hangisidir?

A)  $1\frac{8}{15}$  B)  $3\frac{1}{2}$  C)  $-\frac{23}{15}$  D)  $-\frac{7}{6}$

9.  $\left(-\frac{4}{7}\right) \cdot \left[\frac{1}{4} + \blacksquare\right] = \left(-\frac{4}{7}\right) \cdot \frac{1}{4} + \left(-\frac{4}{7}\right) \cdot \left(\frac{4}{11}\right)$

işleminde  $\blacksquare$  yerine aşağıdaki sayılardan hangisi yazılmalıdır?

A)  $\frac{4}{11}$  B)  $\frac{1}{4}$   
C)  $\frac{4}{7}$  D)  $-\frac{4}{11}$

10.  $\left(2 + \frac{1}{3}\right) : \left(1 - \frac{2}{3}\right) + 6$

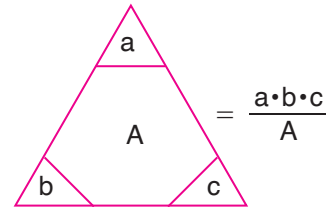
işleminin sonucu kaçtır?

A)  $6\frac{1}{3}$  B)  $2\frac{1}{3}$  C) 7 D) 13

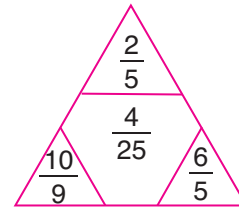
11. Aşağıdaki bölme işlemlerinden hangisinin sonucu en küçüktür?

A)  $\left(-\frac{3}{2}\right) : \left(1\frac{1}{2}\right)$  B)  $-1 : \left(-2\frac{1}{3}\right)$   
C)  $1 : \left(-\frac{4}{3}\right)$  D)  $\left(1\frac{2}{3}\right) : \left(-\frac{5}{4}\right)$

12. Aşağıda verilen şekilde üçgenin köşelerindeki sayıların çarpımı ortada yazılı olan sayıya bölünmektedir.



Buna göre,



işleminin sonucu kaçtır?

A)  $\frac{7}{3}$  B)  $\frac{5}{2}$  C)  $\frac{2}{5}$  D)  $\frac{10}{3}$

# **FEN BİLİMLERİ**


**7.  
SINIF**

1. Uzay boşluğunda bulunan bir gök cisminin fotoğrafı yanda verilmiştir.



**Bu gök cismi ile ilgili aşağıdaki ifadelerden hangisi yanlıştır?**

- A) Sıcak gaz ve toz bulutlarından oluşurlar.  
B) Yıldızların oluşumunu gerçekleştirirler.  
C) Galaksilere göre daha geniş alan kaplarlar.  
D) Bazıları parlak, bazıları karanlık gözlemlenirler.
2. Güneş sisteminde bulunan bazı gök cisimlerinin fotoğrafları aşağıda verilmiştir.



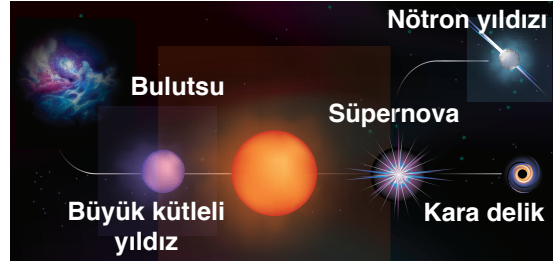
**Bu fotoğrafta bulunan yıldız ve gezegenlerin,**

- I. Şekilleri küreseldir.  
II. Dünya'dan bakıldığında ışıkları titreşimli görünür.  
III. Gökyüzündeki konumları değişir.

**hangi özellikleri ortaktır?**

- A) Yalnız I.                      B) I ve II.  
C) I ve III.                      D) II ve III.

3. Bir yıldızın oluşumu ve gelişimi ile ilgili resim aşağıda verilmiştir.



**Bu resme göre,**

- I. Yıldızlar da canlılar gibi doğar, büyür ve ölürlür.  
II. Yıldızlar, bulutsu adı verilen gaz ve toz bulutlarından oluşur.  
III. Büyük kütleli yıldızların hayatları süpernova patlaması ile son bulur ve yıldızdan geriye nötron yıldızları veya kara delikler kalır.

**ifadelerinden hangilerine ulaşılabilir?**

- A) Yalnız II.                      B) I ve II.  
C) I ve III.                      D) I, II ve III.

4. Işık yılı kavramı ile ilgili aşağıdaki ifadelerden hangisi yanlıştır?



- A) Gök cisimleri arasındaki mesafeyi ifade edebilmek için kullanılır.  
B) Dünya'nın uzayda bir yılda aldığı mesafedir.  
C) Uzunluk birimidir.  
D) Işığın boşlukta bir yılda aldığı yoldur.

5. Dünya'dan bakıldığında gökyüzündeki bazı yıldızlar bir aradaymış gibi görünür. Bu şekilde birden fazla yıldızın bir arada bulunmasıyla oluşan yıldız kümelerine takımyıldızı denir. Aşağıda bazı takımyıldızları verilmiştir.



Büyükkayı



Küçükkanı



Ejderha



Akrep

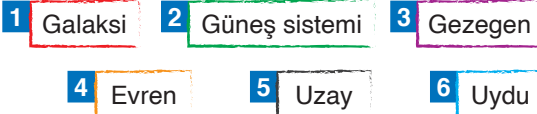
#### Takımyıldızları ile ilgili,

- I. Takımyıldızda bulunan yıldızlar bir aradaymış gibi görünmelerinin nedeni birbirine çok yakında bulunmalarıdır.
- II. Takımyıldızların görüntüleri bitkilere, hayvanlara ve günlük hayatta kullanılan bazı nesnelere benzetilmiştir.
- III. Takımyıldızlar, gökyüzü gözlemlerini kolaylaştırmaktadır.

#### ifadelerinden hangileri doğrudur?

- A) Yalnız I.                      B) I ve II.  
C) II ve III.                      D) I, II ve III.

6. Gök cisimleriyle ilgili terimler aşağıda verilmiştir.



**Bu terimlerin kapladıkları alana göre büyükten küçüğe doğru sıralaması aşağıdakilerden hangisinde verilmiştir?**

- A) 1 - 4 - 5 - 2 - 3 - 6  
B) 4 - 5 - 1 - 3 - 6 - 2  
C) 4 - 5 - 1 - 2 - 3 - 6  
D) 5 - 4 - 1 - 2 - 3 - 6

7. Milyonlarca yıldız, bulutsu ve gaz bulutlarından oluşmuş sistemlere gök ada (galaksi) adı verilir. Şekil bakımından dört tür galaksi vardır: sarmal galaksi, çubuklu sarmal galaksi, eliptik galaksi ve düzensiz galaksi.




#### Buna göre galaksilerle ilgili aşağıdaki ifadelerden hangisi yanlıştır?

- A) Güneş sistemi Samanyolu Galaksisi'nde bulunur.  
B) Samanyolu Galaksisi, sarmal galaksilere örnektir.  
C) Samanyolu Galaksisi'ne en yakın galaksi Andromeda Galaksisi'dir.  
D) Samanyolu Galaksisi günümüz teknolojisinde tespit edilmiş en büyük galaksidir.

8. Yıldızların renkleri bizlere sıcaklıkları hakkında bilgi verebilir. Yüksek sıcaklıktaki yıldızlar mavibeyaz, orta sıcaklıktaki yıldızlar sarı, soğuk yıldızlar da kırmızı renkte görünür. Güneş orta sıcaklıkta bir yıldızdır.

Aşağıda K, L ve M yıldızlarının renkleri verilmiştir.



#### Buna göre K, L ve M yıldızları ile ilgili,

- I. Isı ve ışık kaynağıdır.
- II. Sıcaklıkları arasında  $K > L > M$  ilişkisi vardır.
- III. K, Güneş'ten sıcak, M ise Güneş'ten soğuk yıldızlardır.

#### ifadelerinden hangileri söylenebilir?

- A) Yalnız I.                      B) I ve III.  
C) II ve III.                      D) I, II ve III.

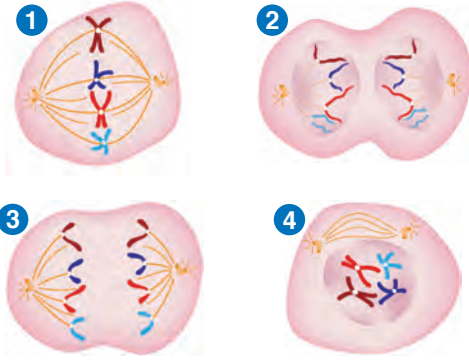
1. Mitoz bölünme ile ilgili,

- I. Tek hücreli ve bazı çok hücreli canlılarda eşeysiz üremeyi sağlar.
- II. Çekirdek ve sitoplazma iki kez bölünür.
- III. Oluşan yavru hücrelerin kalıtsal özellikleri birbirleriyle ve ana hücreyle aynıdır.

ifadelerinden hangileri doğrudur?

- A) Yalnız II.                      B) I ve III.  
C) II ve III.                      D) I, II ve III.

2. Aşağıda mitoz bölünmenin evreleri karışık olarak verilmiştir.



Bu evrelerin meydana geliş sırası aşağıdakilerin hangisinde verilmiştir?

- A) 1 → 4 → 2 → 3              B) 1 → 3 → 4 → 2  
C) 4 → 1 → 2 → 3              D) 4 → 1 → 3 → 2

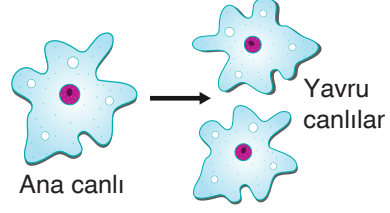
3. Aşağıda "Mitoz" konusu ile ilgili cümleler boşluklar bırakılarak verilmiştir.

- ➔ Vücut hücrelerinde meydana gelen bölünmeye ..... denir.
- ➔ Hücreye bölünme emrini ..... verir.
- ➔ Bitki hücresinde ..... nedeniyle boğumlanma gerçekleşmez.

Bu cümlelerdeki, boşluklara aşağıdaki kavramlardan hangisi yazılamaz?

- A) sitoplazma                      B) mitoz bölünme  
C) hücre duvarı                      D) çekirdek

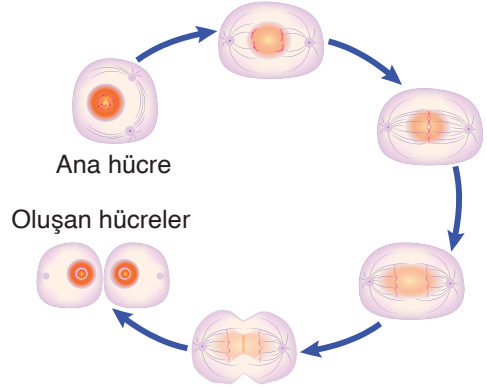
4. Aşağıda tek hücreli bir canlının üremesi gösterilmiştir.



Bu üreme olayı ile ilgili aşağıdaki ifadelerden hangisi yanlıştır?

- A) Mitoz ile gerçekleşmiştir.  
B) Yavru canlıların kalıtsal yapısı ana canlı ile aynıdır.  
C) Ana canlının kromozom sayısı yavru canlıların iki katıdır.  
D) Oluşan yavru hücreler belli bir süre sonra tekrar mitoz bölünme geçirebilir.

5. Bir hücre bölünmesinin evreleri aşağıda verilmiştir.



Bu hücre bölünmesi ile ilgili aşağıdaki ifadelerden hangisi yanlıştır?

- A) Çekirdek ve sitoplazma bir kez bölünür.  
B) Tek hücreli ve bazı çok hücreli canlılarda eşeysiz üremeyi sağlar.  
C) Tür içinde çeşitlilik oluşturmada türün devamını sağlar.  
D) Sadece canlıların ergenlik döneminde görülür.

6. Hücre bölünmesi, hücrenin bölünerek iki veya daha fazla sayıda hücre oluşturma sürecidir.

- I. Kırık kolun iyileşmesi
- II. Çok hücreli canlıların büyüüp, gelişmesi
- III. Akvaryum içindeki yosunların suyun rengini yeşile dönüştürmesi

**Hücre bölünmesi sonucu yukarıdaki olaylardan hangileri gerçekleşir?**

- A) Yalnız II.                      B) I ve II.  
C) I ve III.                        D) I, II ve III.


7. Vücudumuzda bulunan bazı hücre çeşitleri aşağıda gösterilmiştir.




Sperm hücresi



Sinir hücresi



Çizgili kas hücresi



Bağırsak hücresi

**Bu hücrelerden kaç tanesi mitoz ile hücre sayılarını artırabilir?**

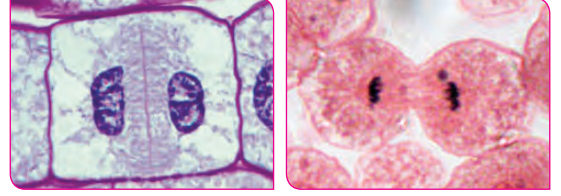
- A) 1                      B) 2                      C) 3                      D) 4

8.  $2n = 48$  kromozomlu bir hücre arka arkaya 2 defa mitoz geçiriyor.

**Buna göre, oluşan hücre sayısı ve her bir hücredeki kromozom sayısı aşağıdakilerden hangisinde verilmiştir?**

	Hücre sayısı	Kromozom sayısı
A)	4	24
B)	4	48
C)	4	96
D)	8	48

9. İki farklı hücrenin mitoz bölünmeleri aşağıda gösterilmiştir.



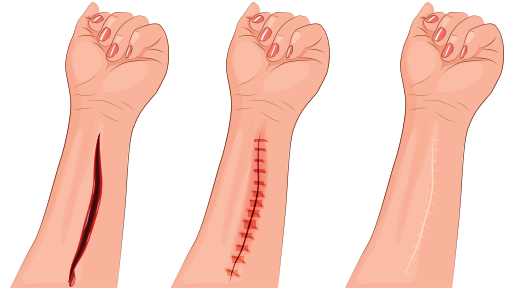
**Bu hücrelerde,**

- I. DNA'nın eşlenmesi,
- II. sentrozom organelinin iç ipliklerini oluşturmaması,
- III. ara lamel ile sitoplazmanın bölünmesi

**gerçekleşen olayların hangileri birinde görülürken diğerinde görülmez?**

- A) Yalnız II.                      B) I ve II.  
C) II ve III.                        D) I, II ve III.

10. İş kazası sonucu kolunu yaralayan Şenay'ın koluna dikiş atılmış ve kolundaki yara aşağıda gösterildiği gibi iyileşmiştir.



**Yaranın bu duruma gelmesi sırasında gerçekleşen olaylar ile ilgili,**

- I. Yaralı bölgede ölen hücrelerin yerine yenileri mitoz bölünmeyle oluşturulmuştur.
- II. Hücre sayısı artarken kromozom sayısı azalmıştır.
- III. Oluşan hücrelerin genetik yapısı birbirinin aynısıdır.

**ifadelerinden hangileri doğrudur?**

- A) Yalnız II.                      B) I ve II.  
C) I ve III.                        D) I, II ve III.

# SOSYAL BİLGİLER

7.  
SINIF



1. İletişimi olumsuz etkileyen davranışlardan bazıları şunlardır:

- Yargılamak, eleştirmek
- Öğüt vermek
- Suçlayıcı ifadeler kullanmak
- Ad takmak, küçük görmek

**Buna göre aşağıdakilerden hangisi iletişimi olumsuz yönde etkileyen bir davranıştır?**

- A) Biraz daha gayret edersen daha başarılı olacağına inanıyorum.
- B) Yarın beraber futbol oynayalım mı?
- C) Zaten zayıf olacağını biliyordum!
- D) Senin düşüncelerin benim için değerli

2. Çocuklar çevresindeki kişilerin kendilerini dinlemesi ve dikkate alması konusunda oldukça duyarlıdır. Dinlenmediklerini ve önemsenmediklerini hemen fark ederler. Anne ve babasının kendisini dinlediğini fark eden çocuk sevildiği, önemsendiği ve anlaşıldığı duygusunu yaşar.

**Verilen bilgilere göre aşağıdaki davranışlardan hangisini sergileyen anne ya da babanın çocuğuyla sağlıklı bir iletişim kurması söylenemez?**

- A) Şule gittiği tiyatrodan yaşadıklarını anlatırken babasının ona dönerek onu dinlemesi
- B) Yusuf'un beden eğitimi öğretmeninin onun yetenekleri ile ilgili söylediği şeyleri babasına anlatırken babasının televizyon seyretmeye devam etmesi.
- C) Elif'in öğretmeni ile ilgili düşüncelerini anlatırken annesinin bulaşık yıkamayı bırakarak çocuğunu dinlemesi
- D) Hakan'ın tiyatro gösterisine anne ve babasının izlemeye gelerek ona moral vermesi

3. I. Konuşurken konuştuğumuz kişinin gözlerinin içine bakarak konuşmalıyız.
- II. Bir konuyu anlatırken gerçekçi ve doğal davranmalıyız.
- III. Bizim gibi düşünmeyenlerin fikirlerini çok fazla dikkate almamalıyız.
- IV. Birisi bize nasihat veriyorsa onun açıklarını düşünmeliyiz.

**Verilenlerden hangileri iletişimde dikkat edilmesi gereken kurallardandır?**

- A) I ve II  
B) I ve II  
C) II ve III  
D) III ve IV

4. İnsanlar arasında kurulan iletişimin olumlu olduğu bir toplumda,

- I. Gerginlik ve çatışmalar artar.
- II. Hoşgörü ortamı oluşur.
- III. Şiddet olayları yaşanmaz.

**hangilerinin ortaya çıkması beklenir?**

- A) Yalnız II  
B) I ve II  
C) I ve III  
D) II ve III

5.

Arkadaşlarımla sohbet ederken onların sözünü kesmeden sabırla dinliyorum. Onlara bir şey söylerken empati yapıyorum. Etrafımda yaşayan her insanı ayrı bir dünya olarak görüyorum. Onların düşüncelerini, yaşam biçimlerini, davranışlarını anlamaya çalışıyorum.



**Verilen bilgilere göre aşağıdakilerden hangisinin Hale'nin karakterine uyduğu söylenebilir?**

- A) Bencil olmak
- B) Empati kurmamak
- C) Anlayışlı olmak
- D) Sadece kendini düşünmek

6. İletişim, insanlar arasındaki duygu alışverişi olup insanların ihtiyaçlarını karşılama, sorunlarını anlatabilme ve duygularını ifade edebilme gibi ihtiyaçlardan doğmuştur. Hayatımızın pek çok alanında var olan iletişim doğru kurulduğu zaman toplum huzuru ve birlikteliğin altın anahtarıdır.

**Buna göre doğru bir iletişim kurabilmek için,**

- I. Farklılıklara saygı göstermek.
- II. Sen dili kullanmak.
- III. İnsanları yönlendirmeye çalışmak.
- IV. Anlaşılır bir dil kullanmak.

**gibi davranışlardan hangileri yapılmalıdır?**

- A) I ve III                      B) I ve IV  
C) II ve IV                      D) III ve IV

7. Günlük hayatımızda etkili bir iletişim kurmak için dikkat etmemiz gereken bazı hususlar şunlardır:
- Duygu ve düşüncelerimizi dolaylı yollara sapmadan net ve açık bir şekilde, uygun bir ses tonuyla ifade etmek.
  - Herhangi bir konuda bir şey anlatırken veya dinlerken karşımızdaki kişinin gözlerinin içine bakarak konuşmak ya da dinlemek.
  - Kişinin bir durum karşısındaki söylemlerini karşısındakini incitmeden anlatmaya çalışmak.

**Verilen bilgilerde etkili bir iletişim kurmak için dikkat edilmesi gereken aşağıdaki hususların hangisinden bahsedilmemiştir?**

- A) Empati kurmak  
B) Ses tonu  
C) Göz teması kurmak  
D) Ben dili kullanmak

8. İletişim kurarken jest ve mimiklerimizi yani beden dilimizi kullanarak anlatmak istediğimiz pek çok şeyi karşımızdaki kişiye anlatabiliriz.

**Aşağıdakilerden hangisi verilen bilgiye örnek olarak gösterilebilir?**

- A) Ahmet Bey'in ödevini yapmayan oğlunu uyarması  
B) Aylin Hanım'ın gürültü yapan komşusunu uyarması  
C) Zeynep Öğretmen'in sabah herkese günaydın diye selam vermesi  
D) Furkan Bey'in komşusunun kızının saçını okşaması

9. Hakan eve geldiği zaman anne ve babasının kendisine karşı soğuk davrandıklarını fark eder.

**Hakan'ın aşağıdaki hangi davranışı sorunun çözümüne daha fazla katkı sağlar?**

- A) Anne ve babasına küsmesi  
B) Anne ve babasına bu davranışlarının sebebini sorması  
C) Yaşadığı bu durumu önemsememesi  
D) Odasına çekilip onlara tavır alması

10. Bir kimsenin ne söyleyeceğini bilmesi yeterli değildir; nasıl söyleyeceğini de bilmesi gerekir.

**Aristo'nun bu sözünü aşağıdakilerden hangisi en iyi şekilde açıklar?**

- A) Söylenecek şeyler hızlı bir şekilde anlatılmalıdır.  
B) Söylenecek şeylerin söyleyiş tarzına ve şekline dikkat edilmelidir.  
C) Bazen jest ve mimikler sözden daha etkilidir.  
D) Farklı fikirlere de saygı gösterilmelidir.

1. 

Bulgaristan'da Osmanlı'dan Kalan Mimari Eserler				
Cami Mescit	Medrese Mektep	Han Hamam	Kervan-saray	Köprü
2356	415	229	16	24

**Bu tabloya göre aşağıdakilerden hangisi söylenebilir?**

- A) Bulgaristan'ın Osmanlı hakimiyetinde ba-  
yındır hâle geldiği
- B) Osmanlı Devleti'nin balkanlarda en fazla  
vergiyi Bulgaristan'dan aldığı
- C) Osmanlı Devleti'nin Bulgaristan'daki haki-  
miyetinin kısa sürdüğü
- D) Bulgaristan halkının büyük bölümünün İsla-  
miyet'i kabul ettiği

2. **Osmanlı Devleti'nde,**

- I. Sınırların genişlemesi  
II. Beyliklerin Osmanlı hâkimiyetine girmesi,  
III. Devletin kurumsallaşması

**gelişmelerinden hangileri, Osmanlı Devleti'nde farklı milletlerin oluşmasına ortam hazırlamıştır?**

- A) Yalnız I                      B) Yalnız II  
C) I ve II                        D) II ve III

3. **Osmanlı Devleti'nin Kuruluş Dönemi'nde görülen aşağıdaki gelişmelerden hangisi devletin kurumsallaşma çalışmalarına örnek olarak gösterilemez?**

- A) Orhan Bey Dönemi'nde divan teşkilatının kurulması
- B) I. Murat Dönemi'nde Yeniçeri Ocağının kurulması
- C) Yıldırım Beyazıt Dönemi'nde Haçlılarla yapılan Niğbolu Savaşı'nın kazanılıp Haçlılara üstünlük kurulması
- D) I. Murat Dönemi'nde tımar sisteminin kurulması

4. **Aşağıda Osmanlı ordusu ile ilgili bazı bilgiler verilmiştir.**

- I. Kapıkulu askerlerine devlet tarafından maaş verilmiştir.
- II. Osmanlı Devleti'nin ilk düzenli ordusu ya-  
ya ve müselleme teşkilatıdır.
- III. Yeniçeri Ocağına alınan kişiler devşirme sistemi ile yetiştirilen çocuklardan oluşmuştur.
- IV. Osmanlı Devleti'nde ilk donanma Çelebi Mehmet Dönemi'nde kurulmuştur.

**verilen bilgilerden hangisi doğru değildir?**

- A) I                      B) II                      C) III                      D) IV

5. **Osmanlı Beyliği'nin ilk yerleşim yeri olan Söğüt'ün aşağıdaki hangi özelliği beyliğin kısa ürede büyüüp gelişmesine katkı sağlamıştır?**

- A) Zengin yer altı ve yer üstü kaynaklarına sahip olması
- B) Karışıklık içinde olan Bizans ile komşu olması
- C) Ticari hayatın gelişmiş olması
- D) Halkın büyük çoğunluğunun Türklerden oluşması

6. **Osmanlı Devleti'nin ekonomisi ile ilgili aşağıdakilerden hangisi söylenemez?**

- A) Osmanlı Devleti'nin ekonomisinin temeli tarıma dayanmaktadır.
- B) Osmanlı Devleti'nde toprakların sahibi çiftçiler olup, onlardan vergi alınmaktadır.
- C) Osmanlı'da sanayi genellikle el tezgahlarından oluşan küçük işletmelerdir.
- D) Osmanlı Devleti'nde hayvancılığın bağlı olarak dericilik ve dokumacılık gelişmiştir.

## 7. Osmanlı Devleti Balkanlara geçtikten sonra,

- Fethettikleri yerlere Anadolu'dan getirdikleri Türkmenleri yerleştirmişlerdir.
- Halka adaletli ve hoşgörülü davranmışlardır.
- Başkenti Bursa'dan Edirne'ye taşımışlardır.
- Balkanlardaki otorite boşluğundan yararlanmışlardır.

bu bilgilere dayanarak aşağıdakilerden hangisine ulaşamaz?

- A) Balkanlarda kalıcı egemenlik kurmayı amaçlamıştır.
- B) Balkanlarda ve Avrupa'da fetihlere ağırlık vermeye başlamışlardır.
- C) Yönetim anlayışı olarak Balkan devletlerinin yönetimi örnek alınmıştır.
- D) Balkan devletlerinin içinde bulunduğu durumdan yararlanmak istemiştir.

## 8.

Malazgirt Savaşı'ndan sonra birçok Türk boyu ile beraber Anadolu'ya geldik. Türkiye Selçuklu hükümdarı Alaattin Keykubat onlara Moğollarla yaptıkları mücadelede yardım ettiğimiz için biz kayıları Bizans sınırında bulunan Söğüt ve Domaniç'e yerleştirdi. Bizi Selçuklu sınırını Bizans'a karşı korumak ve bu devlete karşı fetih ve gaza yapmakla görevlendirdi.



Ertuğrul Gazi'nin sözleri dikkate alındığında aşağıdakilerden hangisine ulaşılabilir?

- A) Kayılar Anadolu'ya gelen en kalabalık Türk boylarından biridir.
- B) Kayılar Moğol baskısından kaçarak Anadolu'ya gelmiştir.
- C) Malazgirt Savaşı'ndan sonra Anadolu'ya Türk göçleri başlamıştır.
- D) Kayılar Anadolu'ya gelen Türk boyları içinde en hızlı büyüyen boy olmuştur.

9. Osmanlı Devleti'nde "iskan politikası" Orhan Bey Dönemi'nden itibaren uygulanmaya başlanmış, ilk olarak Karesi Beyliği'nden bir grup Türk göçebeyi Gelibolu ve Hayrabolu'ya yerleştirmiştir.

Buna göre aşağıdakilerden hangisi Osmanlı Devleti'nin balkanlarda uyguladığı iskan politikasının amaçlarından değildir?

- A) Fethedilen yerleri Türk yurdu hâline getirmek
- B) Fethedilen bölgelerde kalıcı egemenlik kurmak
- C) Fetih hareketlerinin devam etmesini sağlamak
- D) Fethedilen bölgelerdeki halkın Müslüman olmasını sağlamak

10. Orhan Bey Bursa'nın fethinden sonra Rumları toplayıp şehri teslim etmelerinin sebebini sorduğunda onlardan şu cevabı almıştır.

"Sizin devletinizin günden güne büyüdüğünü ve bizim devletimizin zayıfladığını anladık. Babanız idaresine giren köylülerin memnun kalıp bizi hiç anmadıklarını gördük. Biz de bu rahatlığa ve güvene heves ettik."

Verilen bu bilgiye göre,

- Osmanlı Devleti hâkimiyeti altına aldığı başka milletlere mensup insanlara hoşgörülü davrandığı.
- Osmanlı Devleti'nin genişleme politikasında askerî güç kadar, adaletli yönetim anlayışında etkili olduğu.
- Osmanlı Devleti'nin her konuda Rumlara ayrıcalıklı davrandığı.

yapılan yorumlardan hangilerine ulaşılabilir?

- A) I ve II
- B) I ve III
- C) II ve III
- D) I, II ve III

# **DİN KÜLTÜRÜ VE AHLAK BİLGİSİ**

**7.  
SINIF**

	Varlık	Âlem
I	Cin	Görülemeyen
II	Martı	Görülen
III	Şeytan	Görülen
IV	Fare	Görülemeyen

7. sınıf öğrencisi Servet yukarıdaki tabloyu düzenlerken bir hata yapmıştır.

**Verilen tabloda hangi numaralar yer değiştirirse hata giderilmiş olur?**

- A) I – II  
B) I – IV  
C) II – III  
D) III – IV

2. I. Melekler bıkmama, usanma, yorulma hissetmezler.  
II. Melekler irade sahibi varlıklardır.  
III. Melekler hiçbir zaman Allah'ın emirlerine karşı gelmezler.

**Meleklerle ilgili verilen bilgilerden hangileri doğrudur?**

- A) Yalnız I  
B) Yalnız II  
C) I ve III  
D) I, II ve III

3. Sözlükte - - - -; "gizli ve örtülü varlık, görülmeyen şey" anlamına gelir.

**Cümledeki boşluğa aşağıdakilerden hangisi getirilmelidir?**

- A) Şeytan  
B) Cin  
C) İnsan  
D) Melek

4. "Şeytan: 'Sonra (onların) önlerinden ve arkalarından, sağlarından ve sollarından onlara sokulacağım ve çocuklarını şükredenlerden bulmayacaksınız!' dedi."

(A'râf suresi, 17. ayet)

**Bu ayeti kerimede şeytanların hangi özelliğine değinilmiştir?**

- A) Kötü alışkanlıklarla insanların aile huzurunun bozulmasını ister.  
B) İnsanların arasına düşmanlık sokarak onları birbirine düşürür.  
C) İnsanları iyi ve güzel işlerden uzaklaştırıp kötü davranışlara yöneltmek için çalışır.  
D) İnsanlara, yaptıkları kötü işleri güzel gösterir.

5. İslam inancında geleceği Allah'tan başkası bilemez. Bu nedenle falcılık yoluyla geleceği bildiğini iddia etmek kadar fal baktırmak veya fala inanmak da dinimizce yasaklanmıştır.

**Bu düşünceyi desteklemek için aşağıdaki ayetlerden hangisi kanıt olarak gösterilebilir?**

- A) "Nihayet onlardan birine ölüm geldiği zaman der ki: Rabb'im! beni geri gönder, belki terk ettiğim dünyada yararlı bir iş yaparım."  
(Mü'minûn suresi, 99. ayet)  
B) "Sûra üflenince Allah'ın diledikleri müstesna olmak üzere göklerde ve yerde ne varsa hepsi ölecektir. Sonra ona bir daha üflenince bir de ne görürsün, onlar ayağa kalkmış bakışıyorlar!"

(Zümer suresi, 68. ayet)

- C) "(Rabb'imiz!) Ancak sana kulluk ederiz ve yalnız senden medet umarız."

(Fâtîha suresi, 5. ayet)

- D) "Gaybın anahtarları Allah'ın yanındadır; onları O'ndan başkası bilmez. O, karada ve denizde ne varsa bilir; O'nun ilmi dışında bir yaprak bile düşmez. O yerin karanlıkları içindeki tek bir taneyi dahi bilir. Yaş ve kuru ne varsa hepsi apaçık bir kitaptadır."

(En'âm suresi, 59. ayet)

6. “Kendi yaratılışını unutarak bize karşı örnek getirmeye kalkışıyor ve ‘Şu çürümüş kemikleri kim diriltecek?’ diyor. De ki: Onları ilk defa yaratmış olan diriltecek. O her şeyi hakkıyla bilen yaratıcıdır. Yeşil ağaçtan sizin için ateş çıkaran O’dur. İşte siz ateşi ondan yakıyorsunuz. Gökleri ve yeri yaratan, onların benzerlerini yaratmaya kâdir değil midir? Evet! Elbette kâdirdir. Çünkü O, her türlü yaratmayı gayet iyi bilir. Bir şey yaratmak istediği zaman O’nun yaptığı sadece ‘Ol!’ demekten ibarettir. Hemen oluverir.”

(Yâsîn suresi, 78-82. ayetler)

**Bu ayetlerden aşağıdakilerden hangisine ulaşılamaz?**

- A) Yoktan var eden için diriltmek daha kolaydır.  
B) Gökleri ve yerleri yaratan benzerlerini de rahatlıkla yaratır.  
C) Allah bir şeyi yaratmak istediğinde “ol” der ve o olur.  
D) Allah insanları ahirette daha farklı bir surette yaratacaktır.
7. Her canlının bir sonu olduğu gibi dünyanın da bir sonu vardır. Zamanı gelince Allah’ın emriyle İsrâfil (a.s.) (melek) sura üfleyecek ve kıyamet kopacaktır.

**Kıyametin ne zaman kopacağını kesin olarak**

- I. İsrâfil (a.s.),  
II. Allah (c.c.),  
III. Hz. Muhammed (s.a.v.)

**hangileri bilmektedir?**

- A) Yalnız I  
B) Yalnız II  
C) I ve II  
D) I, II ve III
8. İnsan şeytanın şerrinden korunmak için çeşitli tedbirler alabilir.
- Aşağıdakilerden hangisi şeytanın kötülüklerinden korunmak için yapılması gereken davranışlardan biri değildir?**
- A) Kendine güvenmek  
B) Felâk ve Nâs surelerini okumak  
C) Ayete’l-Kürsi ve İhlâs surelerini okumak  
D) Allah’a inanmak ve O’na sığınmak

9. Ahiret gününe inanan insan öldükten sonra tekrar diriltileceğini ve yaptıklarından hesaba çekileceğini bilir. Bu nedenle yaptığı bütün işlerde sorumluluk bilinciyle hareket eder. Kötülük yapmaktan kaçınır. Allah’ın, cennette kendisi için hazırladığı nimetlere kavuşmak amacıyla onun hoşnut olacağı işler yapar. Sonunda cennette kendisi için hazırlanan nimetlere kavuşur.

**Bu metne göre aşağıdakilerden hangisine ulaşılamaz?**

- A) Ahirete inananlar öldükten sonra dirileceklerini de bilirler.  
B) Her insan cennete mutlaka gider.  
C) Cennete gitmek için Allah’ın hoşnut olduğu şeyleri yapmak gerekir.  
D) Ahirete inanan insan yaptıklarının hesabını vereceğini bildiğinden hata yapmamaya özen gösterir.

10. **Aşağıda verilenlerden hangisi cinlerin ve meleklerin ortak özelliklerinden biridir?**

- A) Her ikisi de ateşten yaratılmıştır.  
B) Her ikisi de çok hızlı hareket edebilir.  
C) Her ikisi de yaptıklarından hesaba çekilecektir.  
D) Her ikisi de yemez içmezler.

11. **Aşağıda meleklerle ilgili verilen bilgilerden hangisi yanlıştır?**

- A) Kısa zamanda uzun mesafelere gidebilirler.  
B) Melekler uyuyarak dinlenirler.  
C) Allah’a ibadet edip onun emirlerini eksiksiz bir şekilde yerine getirirler.  
D) Melekler günah işlemezler.


1. Hac ibadeti İslam dini açısından çok önemlidir. Çünkü hac ibadeti İslam'ın beş temel esasından biridir. Bu nedenle her Müslümanın, haccın farzları nelerdir, hac kimlere farzdır ve hac ibadeti nasıl yapılır gibi soruların cevabını biliyor olması gerekir.

- I. Hac ibadeti hicretin 9. yılında farz olmuştur.
- II. Hac, hem beden hem de mal ile yapılan bir ibadettir.
- III. Hac, şartları uygun olan her Müslüman'a farzdır.

**Numaralanmış cümlelerden hangileri, parçada altı çizili soruların cevaplarıdır?**

- A) Yalnız I                      B) Yalnız II  
C) Yalnız III                     D) I ve III

2. Her hayvandan kurban olmaz. Kurban edilecek hayvanın sağlık, cins, yaş gibi çeşitli özelliklerinin kurban kesim şartlarına uygun olması gerekir.



**Buna göre numaralanmış görsellerden hangileri kurban edilebilecek hayvanlardan değildir?**

- A) Yalnız II                      B) Yalnız III  
C) II ve IV                        D) II, III ve IV

3. ( ) Kâbe'ye gidenler mikatta ihramdan çıkarlar.  
( ) Kâbe'ye gidenler hacca niyet eder ve Telbiye duasını okular.  
( ) İhramlıyken saç, sakal ve tırnak kesilmez.  
( ) İhramlıyken bitkileri koparmak ve hayvanlara zarar vermek yasaktır.

**Hac ibadeti ile ilgili verilen cümlelerden doğru olanların başına (D), yanlış olanların başına (Y) yazıldığında aşağıdakilerden hangisine ulaşır?**

- A) D - D - D - Y                B) Y - D - D - D  
C) Y - D - Y - D                D) D - Y - D - D

4. I. İhrama girmek  
II. Arafat'ta vakfe yapmak  
III. Mina'da şeytan taşlamak  
IV. Kâbe'yi tavaf etmek

**Hac ibadetinin yapılışı ile ilgili verilen bilgilerin sıralaması aşağıdakilerden hangisinde doğru verilmiştir?**

- A) I - II - III - IV                B) II - III - I - IV  
C) III - II - IV - I                D) I - IV - II - III

5. I. Bir yaşını doldurmuş dana  
II. Bir yaşını doldurmuş keçi  
III. Bir yaşını doldurmuş manda

**Kurban edilecek hayvanlarla ilgili verilen yaş kriterlerinden hangileri doğrudur?**

- A) Yalnız I                        B) Yalnız II  
C) I ve II                          D) I, II ve III



6. • Arife günü öğle vaktinden bayram sabahına kadar, bir süre Arafat'ta bulunmaktır.  
• Haccin farzlarından biridir.  
• Belirlenen süre içerisinde Arafat'ta bulunmayanlar o yıl hac ibadetini yapmış sayılmazlar.

**Bu bilgiler aşağıdaki kavramlardan hangisine aittir?**

- A) Sa'y  
B) Tavaf  
C) Şavt  
D) Vakfe

7. Hz. İbrahim ve oğlu Hz. İsmail'in, Allah'ın emriyle yapmış oldukları mabettir. Yapımı sırasında Hz. İsmail taş taşımış, babası Hz. İbrahim de bu mabedi inşa etmiştir. Bu mabedin yapımı tamamlandıktan sonra, Hz. İbrahim ilk tavafı oğlu Hz. İsmail ile beraber yapmış ve bütün insanları burayı ziyarete davet etmiştir.

**Bu parçada bahsedilen mabet aşağıdakilerden hangisidir?**

- A) Beytullah (Kâbe)  
B) Mescid-i Kuba  
C) Mescid-i Aksa  
D) Mescid-i Nebi

8. Âl-i İmran suresinin 97. ayetinde hac ibadeti ile ilgili şöyle bir ifade bulunmaktadır. "...Gücü yetenlerin o evi haccetmesi, Allah'ın insanlar üzerindeki bir hakkıdır..."

**Bu ayetten;**

- I. hac ibadetinin Müslüman olan herkese farz olduğu,  
II. hac ibadetinin ekonomik ve bedenî olarak gücü yetenlere farz olduğu,  
III. hac ibadetinin isteyenlerin yerine getirebileceği bir ibadet olduğu

**yargılarından hangilerine ulaşılır?**

- A) Yalnız I  
B) Yalnız II  
C) II ve III  
D) I, II ve III

9.



**Kâbe'nin etrafında 7 kez tavaf yapan bir kişi kaç şavt yapmıştır?**

- A) 35  
B) 41  
C) 45  
D) 49

10. Hac ibadeti yapılırken dikkat edilmesi gereken bazı davranışlar vardır. Mikad denen, sınırları belirlenmiş bölgede, normal zamanda yapılmasında sakınca olmayan bazı davranışlar yasaklanmıştır.

**Aşağıdakilerden hangisi bu davranışlardan biri değildir?**

- A) Çiçek koparma  
B) Tırnak kesme  
C) Koku sürünme  
D) Yiyip içme

11. Çocuk sahibi olan anne ve babanın Allah'a şükür amacı ile kestikleri kurbanı - - - - denir.

**Cümlede boş bırakılan yere aşağıdakilerden hangisi gelmelidir?**

- A) akika  
B) adak  
C) nafile  
D) tıglama

# İNGİLİZCE

7.  
SINIF

1. ve 6. sorularda boş bırakılan yere uygun gelen kelime ya da ifadeyi işaretleyiniz.

1. **Valeria** : - - - -?

**Amelie** : Archery and golf. I think they are not interesting.

- A) Which sports do you find boring
- B) What is a team sport
- C) Which sports are team sports
- D) What do you need for swimming

2. **Semih** : - - - -?

**Levin** : Yes. I must train hard.

**Semih** : Why?

**Levin** : I want to be a professional sportsman.

- A) How often do you go on a diet
- B) Do you go to the gym every day
- C) Do you always eat healthy food
- D) Are you good at sports

3. **Seren** : I like trekking very much. What about you?

**Oliver** : - - - -.

**Seren** : Great! So we can go together.

- A) I can't do it because I'm not tall
- B) I should join a sports camp
- C) It's my favourite sport because I love nature
- D) Indoor sports are not difficult

4. **Hilal** : - - - -?

**Tricia** : A helmet, knee pads and a bike.

- A) What do I need for climbing
- B) How many bags do I need
- C) Should I bring my swimsuit
- D) Which equipment do you need for cycling

5.



I need a - - - -.

- A) racket
- B) bicycle
- C) snowboard
- D) skateboard

6.



Mark is - - - - now.

- A) having dinner
- B) getting dressed
- C) watching a movie
- D) combing his hair

7.



I love - - - - with my father.

- A) wearing a swimsuit
- B) having dinner
- C) going shopping
- D) going to the gym

8.



Joshua is good at playing - - - -.

- A) baseball
- B) golf
- C) tennis
- D) volleyball

9 ve 10. soruları aşağıdaki metne göre cevaplayınız.

Today is Sunday and Selena is going trekking with her friend, Jane. It is their favourite sport. They have backpacks and they have some water and fruit in them. After trekking, they will go home and watch a movie. They don't have homework because they finished them yesterday. Selena's mom is cooking a cake now. Jane doesn't eat a lot of sweet because she wants to be slim and fit. She wants to be a professional swimmer, so she always goes on a diet.

9. Selena - - - -.

- A) likes outdoor sports
- B) is doing her homework
- C) doesn't eat sweets
- D) wants to read a book after trekking

10. Jane doesn't eat junk food because she - - - -.

- A) wants to be popular
- B) likes healthy food
- C) wants to be plump
- D) should be fit to be a swimmer

1-8. sorularda boş bırakılan yere uygun gelen kelime ya da ifadeyi işaretleyiniz.

1. **Hasan** : Did you watch the sitcom last night?

**Billy** : Yes, I did but I didn't like it.

**Hasan** : Why? I think it was funny.

**Billy** : I - - - - .

- A) watched it when I got home
- B) like learning new things, so I prefer documentaries to sitcoms
- C) prefer spending time in front of the TV
- D) don't care about the signs of TV programmes

2. **Monica** : - - - - ?

**Imelda** : No, thanks. I prefer spending time with my family to watching TV.

- A) Did you watch the sci-fi series last week
- B) Do you want to watch soap operas with me tomorrow
- C) Did you find the talk-show amusing
- D) Do you want to go to the cinema with me

3. **Wayne** : How many - - - - ?

**Carter** : Two. One in the living room and one in the kitchen. My mom loves watching soap operas while cooking.

- A) sisters do you have
- B) books did you read last month
- C) guests are in the show
- D) TVs do you have at home

4.



**Peter is crazy about watching - - - - .**

- A) comedy
- B) commercial
- C) horror films
- D) documentary

5.



**Rosalinda - - - - in the last episode.**

- A) got married
- B) sang a song
- C) died
- D) escaped

6.



**This programme - - - - .**

- A) is for general audience
- B) is for eighteen and over
- C) has negative examples
- D) has violence

**7. I prefer watching informative programmes, so I - - - - .**

- A) watch programmes that have violence
- B) enjoy watching horror movies
- C) don't prefer documentaries
- D) rarely watch sitcoms

**8. - - - - , so we learned a lot about them.**

- A) I skip meals to watch TV
- B) We watched a quiz show
- C) The documentary was about extinct animals
- D) I read books and spend time alone

**9 ve 10. soruları aşağıdaki metne göre cevaplayınız.**

Hi, my name is John. I'm nineteen years old and I like spending time with my family and friends. We like singing songs and playing games. We sometimes watch TV together. My brother is a couch potato but I don't prefer spending so much time in front of the TV. I'm crazy about sitcoms so I sometimes watch them. It's my favourite type of TV programme. I hate watching commercials. They are very boring.

**9. John - - - - .**

- A) can watch programmes that are suitable for eighteen and over
- B) always watches TV with his family
- C) can't stand watching TV, so he only watches films
- D) prefers spending time with his friends to being with his family

**10. John's brother - - - - .**

- A) prefers singing songs to watching TV
- B) spends too much time in front of the TV
- C) always goes out and meets his friends
- D) hates watching commercials